

Олимпиада «Физтех» по физике 2022

Класс 10

Вариант 10-04

Шифр

(заполняется секретарём)

1. Камень брошен с некоторой скоростью V_0 под углом α к горизонту, $\cos \alpha = 0,6$ (см. рис.). Через $\tau = 0,8$ с камень находится на максимальной высоте. В конце полета камень падает на горизонтальную крышу. В момент падения на крышу вектор скорости образует с горизонтом угол β такой, что $\cos \beta = 0,8$

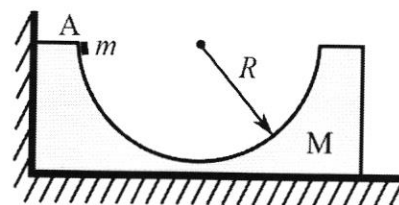


- 1) Найдите начальную скорость V_0 камня.
- 2) На какой высоте h , отсчитанной от точки старта, завершился полет камня? Ускорение свободного падения $g = 10 \text{ м/с}^2$. Силу сопротивления воздуха считайте пренебрежимо малой.

2. Максимальная скорость движения модели автомобиля по окружности радиуса $R = 2$ м, лежащей в горизонтальной плоскости, равна $V_{MAX} = 4 \text{ м/с}$. Модель приводится в движение двигателем. Ускорение свободного падения $g = 10 \text{ м/с}^2$. Силу сопротивления считайте пренебрежимо малой.

- 1) Найдите коэффициент μ трения скольжения шин модели по поверхности. Модель помещают на наклонную поверхность, составляющую угол α с горизонтом такой, что $\sin \alpha = 0,6$.
- 2) Найдите наименьшее время T , за которое модель равномерно проедет по окружности радиуса $R = 2$ м на наклонной поверхности. Коэффициент трения скольжения шин модели по поверхности $\mu = 0,8$.

3. На гладкой горизонтальной поверхности вплотную к вертикальной стенке стоит брусок массой $M = 3m$, в бруске сделано гладкое углубление в форме полусферы радиуса R (см. рис.). Из точки А с нулевой начальной скоростью скользит шайба массы m .



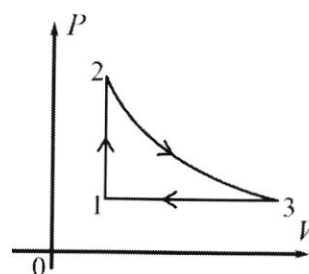
- 1) На какую максимальную высоту H , отсчитанную от нижней точки полусферы, поднимется шайба при дальнейшем движении системы?
- 2) Найдите максимальную кинетическую энергию K_{MAX} бруска при дальнейшем движении системы.
- 3) С какой по величине силой N брусок действует на шайбу в тот момент, когда его кинетическая энергия максимальная? Ускорение свободного падения g .

4. С одноатомным идеальным газом проводят циклический процесс, состоящий из изохоры 12, адиабаты 23 и изобары (см. рис.). В изобарическом процессе объем газа уменьшается в $n = 2 \cdot \sqrt{2}$ раз.

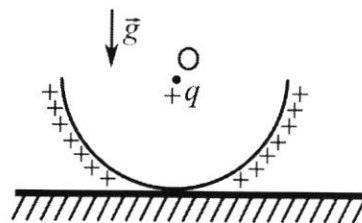
- 1) Найдите КПД такого цикла.

Указание: в адиабатическом процессе с одноатомным идеальным газом

$$PV^{\frac{5}{3}} = \text{const}.$$



5. На горизонтальной поверхности лежит однородная полусфера (см. рис.) массы m . Точка O находится на расстоянии R от всех точек полусферы. По поверхности полусферы однородно с поверхностной плотностью σ распределен положительный заряд. В точке O находится точечный заряд $q > 0$.



- 1) Найдите работу A внешней силы при переносе заряда q из точки O в бесконечность. Электрическая постоянная ϵ_0 .
- 2) Во сколько раз уменьшится сила, с которой полусфера действует на горизонтальную поверхность, после переноса точечного заряда q из точки O в бесконечность? Ускорение свободного падения g . Явлениями поляризации пренебрегите.

ПИСЬМЕННАЯ РАБОТА

Чистовик

№1 Дано:

$$\cos \alpha = 0,6$$

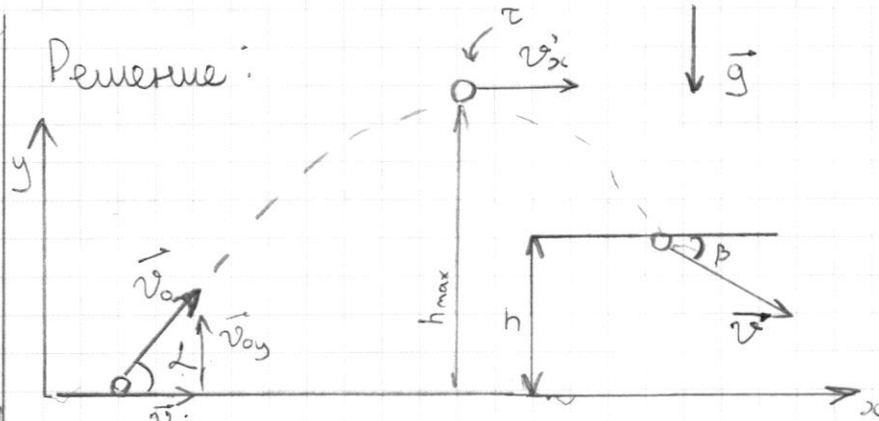
$$\tau = 0,8 \text{ с}$$

$$\cos \beta = 0,8$$

1) v_0 - ?

2) h - ?

Решение:



1) При h_{\max} $\vec{v}' = \vec{v}'_{x'} = \vec{v}_{0x}$
 $\vec{v}'_y = \vec{0}$

ОУ: $v_{0y} - g\tau = 0$; $v_{0y} = g\tau$

$\cos \alpha = \frac{3}{5}$, тогда $\sin \alpha = \sqrt{1 - \cos^2 \alpha} = \frac{4}{5} = 0,8$

$\operatorname{tg} \alpha = \frac{\sin \alpha}{\cos \alpha} = \frac{4}{5} \cdot \frac{5}{3} = \frac{4}{3}$

$\operatorname{tg} \alpha = \frac{v_{0y}}{v_{0x}}$; $v_{0x} = v_{0y} \cdot \operatorname{ctg} \alpha$; $v_{0x} = g\tau \operatorname{ctg} \alpha$

$v_{0x} = v_0 \cos \alpha$

$v_0 \cos \alpha = g\tau \cdot \frac{\cos \alpha}{\sin \alpha}$

$v_0 = \frac{g\tau}{\sin \alpha}$

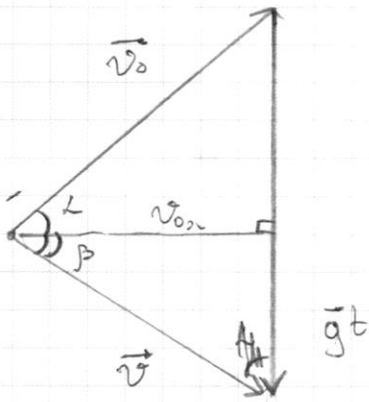
$v_0 = \frac{10 \text{ м/с}^2 \cdot 0,8 \text{ с}}{0,8} = 10 \text{ м/с}$

Смотри прог.

№1 (проег)

Чистовик

2) $\vec{v} = \vec{v}_0 + \vec{g}t$, где t - время полёта



$$v_{0x} = v_0 \cos \alpha$$

$$v_{0x} = v \cos \beta = \cancel{v \cos \alpha} \quad | \Rightarrow$$

$$\Rightarrow v_0 \cos \alpha = v \cos \beta$$

$$v = v_0 \frac{\cos \alpha}{\cos \beta}$$

$$gt = v_0 \sin \alpha + v \sin \beta$$

$$gt = v_0 \sin \alpha + v_0 \frac{\cos \alpha \sin \beta}{\cos \beta}$$

$$\cos \beta = 0,8 \quad \sin \beta = 0,6$$

$$t = \frac{v_0}{g} \left(\sin \alpha + \frac{\cos \alpha \sin \beta}{\cos \beta} \right)$$

$$t = \frac{10 \text{ м/с}}{10 \text{ м/с}^2} \left(0,8 + \frac{0,6 \cdot 0,6}{0,8} \right)$$

$$t = 1,25 \text{ с} = \frac{5}{4}$$

ОУ: $h = \cancel{v_0 \sin \alpha t} - \frac{gt^2}{2}$

$$h = v_0 \sin \alpha t - \frac{gt^2}{2}$$

$$h = 10 \text{ м/с} \cdot \frac{4}{3} \cdot \frac{5}{4} \text{ с} - \frac{10 \text{ м/с}^2 \cdot 25 \text{ с}^2}{16 \cdot 2}$$

$$h = 10 \text{ м} \cdot \frac{4}{3} - \frac{125 \text{ м}}{16} = 120 - \frac{125 \text{ м}}{16} = \frac{160 \text{ м} - 125 \text{ м}}{16}$$

$$= \frac{35 \text{ м}}{16} \approx 2,2 \text{ м}$$

Ответ: $v_0 = 10 \text{ м/с}$, $h = 2$, $h \approx 2,2 \text{ м}$

ПИСЬМЕННАЯ РАБОТА

№ 2 Дано

$$R = 2 \text{ м}$$

$$v_{\max} = 4 \text{ м/с}$$

1) $\mu = ?$

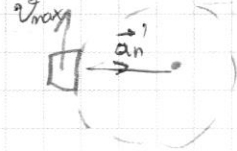
2) $\sin \alpha = 0,6$

$\mu = 0,8$

$T = ?$

Решение:

1) Виг сверху



$$a_n = \frac{v_{\max}^2}{R}$$

II Закон Ньютона

$$F_{\text{mp}} = ma, N = mg$$

III трение ск. $\Rightarrow F_{\text{mp}} = N\mu = \mu mg$

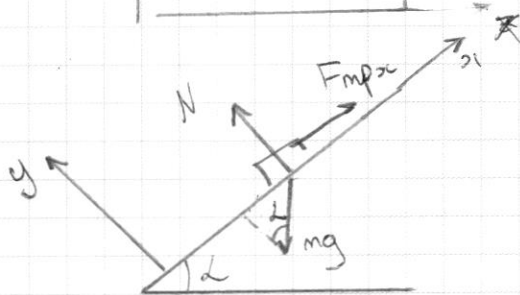
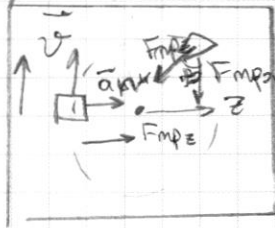
$$\mu mg = ma_n$$

$$a_n = \mu g$$

$$\frac{v_{\max}^2}{gR} = \mu$$

$$\mu = \frac{16 \text{ м}^2/\text{с}^2}{10 \text{ м/с}^2 \cdot 2 \text{ м}} = \frac{16}{20} = \frac{8}{10} = 0,8$$

2) α



$v = \text{const}$ $a_n = \text{const}$ z -мн. у.с. ось

IIЗН: Ox' : $F_{\text{mp}x} = mg \sin \alpha$

Oy' : $N = mg \cos \alpha$

Oz : $ma_n = F_{\text{mp}z}$

III трение ск $\Rightarrow F_{\text{mp}} = \mu N$

~~$$F_{\text{mp}}^2 = F_{\text{mp}x}^2 + F_{\text{mp}z}^2$$~~

~~$$\mu^2 N^2 = m^2 g^2 \sin^2 \alpha + m^2 a_n^2$$~~

~~$$\mu^2 m^2 g^2 \cos^2 \alpha - m^2 g^2 \sin^2 \alpha = m^2 a_n^2$$~~

Система прог

№ 2 (прод.)

$$T = 2 \cdot 3,14 \cdot \sqrt{\frac{2\mu}{10^4 \text{ м/с}^2} \cdot \frac{1}{\sqrt{\left(\frac{4}{5}\right)^2 \cdot \left(\frac{4}{5}\right)^2 - \left(\frac{3}{5}\right)^2}}}$$

$$= 6,28 \cdot \sqrt{\frac{1 \text{ с}^2}{5} \cdot \frac{1}{\sqrt{\frac{31}{25}}}} = 6,28 \sqrt{\frac{1}{5} \cdot \frac{5}{\sqrt{31}}} \text{ с}$$

$$T = 6,28 \cdot \frac{1}{\sqrt[4]{31}} \text{ с} \approx 6,28 \cdot \frac{1}{\sqrt[4]{16 \cdot 2}} \text{ с} = \frac{6,28}{2\sqrt[4]{2}} \text{ с}$$

$$T \approx \frac{3,14 \text{ с}}{\sqrt[4]{2}} \approx \frac{3,14 \text{ с}}{1,1} = \frac{3,14 \text{ с}}{1,1} \approx 2,9 \text{ с}$$

Ответ: 1) $\mu = 0,8$; 2) $T \approx 2,9 \text{ с}$

ПИСЬМЕННАЯ РАБОТА

$\sqrt{2}$ (прог)

$$F_{\text{тп}}^2 \Rightarrow F_{\text{тп}\alpha}^2 + F_{\text{тп}\beta}^2 - 2 F_{\text{тп}\alpha} F_{\text{тп}\beta} \cos \beta$$

т.к. $F_{\text{тп}\alpha} = \text{const}$, $F_{\text{тп}\beta} = \text{const}$, то
нужно, что бы при любом β выполнялось
условие, даже при $\cos \beta_{\text{max}} = 0$ (~~$\beta = 0$~~) ($\beta = 90^\circ$)

$$F_{\text{тп}}^2 \Rightarrow F_{\text{тп}\alpha}^2 + F_{\text{тп}\beta}^2$$

$t = T$, при v_{max} , при a_{max} , при $F_{\text{тп}\beta} = \text{max}$

тогда

Оптимальный вар.

$$F_{\text{тп}}^2 = F_{\text{тп}\alpha}^2 + F_{\text{тп}\beta}^2$$

$$(\mu mg \cos \alpha)^2 = (mg \sin \alpha)^2 + m^2 a_n^2 \quad | : m^2$$

$$g^2 \mu^2 \cos^2 \alpha = g^2 \sin^2 \alpha + a_n^2$$

$$a_n^2 = g^2 (\mu^2 \cos^2 \alpha - \sin^2 \alpha)$$

$$a_n = g \sqrt{\mu^2 \cos^2 \alpha - \sin^2 \alpha}$$

$$\cos \alpha = 0,8 = \frac{4}{5}$$

$$v = \sqrt{a_n R}$$

$$T = \frac{2\pi R}{v}; \quad T = \frac{2\pi R}{\sqrt{a_n R}}; \quad T = \frac{2\pi \sqrt{R}}{\sqrt{a_n}}$$

$$T = 2\pi \sqrt{\frac{R}{g} \cdot \frac{1}{\mu^2 \cos^2 \alpha - \sin^2 \alpha}}$$

смотри прог

№5 (mpog)

$$A = \int_{R/2}^h \frac{k|Q||q|}{r^2} dr \cdot \cancel{h} = \# \frac{k|Q||q|}{-r} \Big|_{R/2}^h \cdot \cancel{h}$$

$$= kQq \cancel{h} \cdot \left(-\frac{2}{R} + \frac{1}{h} \right) = \cdot \left(\frac{1}{-h} - \frac{2}{-R} \right)$$

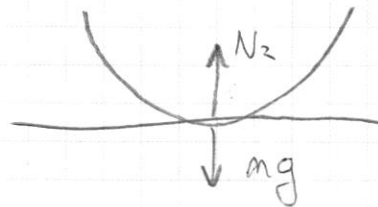
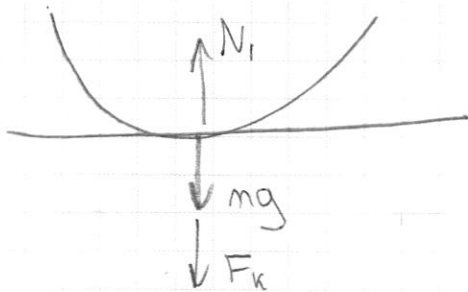
$$= kQq \cancel{h} \left(\frac{2}{R} - \frac{1}{h} \right) ; \frac{1}{h} \rightarrow 0$$

$$A = \frac{kQq \cdot 2}{R} \quad Q = 2\pi R^2 \sigma$$

$$A = \frac{k \cdot 2\pi R^2 \sigma q \cdot 2}{R} = \frac{4k\pi R \sigma q}{1} ; k = \frac{1}{4\pi \epsilon_0}$$

$$A = \frac{Rq\sigma}{\epsilon_0}$$

2)



$$\frac{N_2}{N_2} = \frac{mg + F_k}{mg} = 1 + \frac{F_k}{mg} = 1 + \frac{kQq}{\left(\frac{R}{2}\right)^2 \cdot mg} = 1 + \frac{4kQq}{R^2 mg}$$

$$\frac{N_1}{N_2} = \frac{4Qq}{4\pi \epsilon_0 R^2 mg} + 1 = \frac{2\pi R^2 q \sigma}{\pi \epsilon_0 R^2 mg} + 1 = \frac{2q\sigma}{\epsilon_0 mg} + 1$$

Объем: 1) $A = \frac{Rq\sigma}{\epsilon_0}$ 2) $\frac{N_1}{N_2} = 1 + \frac{2q\sigma}{\epsilon_0 mg}$

ПИСЬМЕННАЯ РАБОТА

ГЗ Дано:

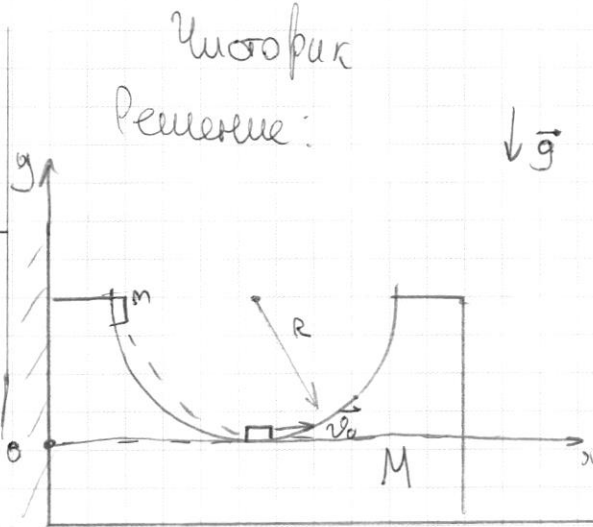
$$M = 3m$$

R

1) H - ?

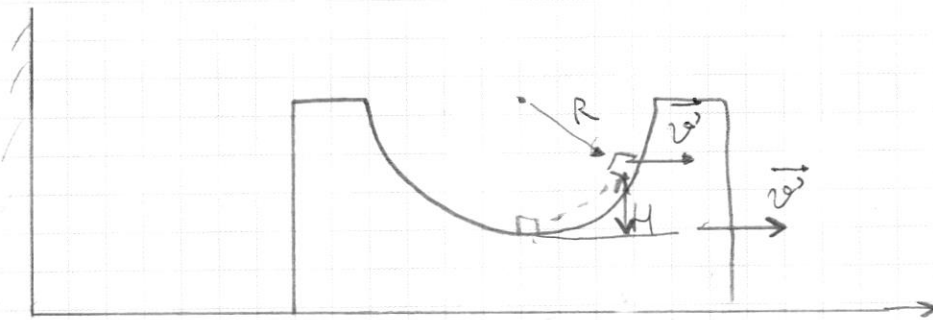
2) K_{\max} - ?

3) N - ?



1) При движении шайбы до середины углубления двигаться будет только шайба т.к. стена не даст брусу двигаться влево, далее двигаться будет вся система.

$$\text{ЗСЭ: } m \cdot \cancel{\varphi} \quad mgR = \frac{m v_0^2}{2}; \quad v_0^2 = 2gR$$




При H , $v_{\text{шайба отн}} = 0$

$$\text{ЗСЭ: системы } m \text{ и } M; \quad \frac{m v_0^2}{2} = mgH + \frac{M v'^2}{2} + \frac{m v'^2}{2} \quad (1)$$

$$\text{ЗСИ: ОХ} \quad m v_0 = (m + M) v' \quad (2)$$

Смотри прод.



черновик чистовик
(Поставьте галочку в нужном поле)

Страница №__
(Нумеровать только чистовики)

ПИСЬМЕННАЯ РАБОТА

№3 (прод.) Чистовик

$$(2) v' = \frac{v_0 \cdot m}{(M+m)} \quad (1) \frac{m v_0^2}{2} = m g H + \frac{v'^2}{2} (m+M)$$

$$\frac{m v_0^2}{2} = m g H + \frac{v_0^2 m^2}{2(M+m)^2} (M+m)$$

$$\frac{m v_0^2}{2} = m g H + \frac{m^2 v_0^2}{2(M+m)}$$

~~$$m g H = \frac{m v_0^2}{2} \left(-1 + \frac{m}{M+m}\right)$$~~

$$m g H = \frac{m v_0^2}{2} - \frac{m \cdot m v_0^2}{2(M+m)}$$

$$m g H = \frac{m v_0^2}{2} \left(1 - \frac{m}{M+m}\right)$$

~~$$m g H =$$~~

$$2 g H = v_0^2 \left(\frac{M+m-m}{M+m}\right)$$

$$2 g H = v_0^2 \cdot \frac{M}{M+m}$$

$$H = \frac{v_0^2}{2g} \cdot \frac{M}{M+m} \quad ; \quad H = \frac{2gR}{2g} \cdot \frac{M}{M+m}$$

Смотри
прод.

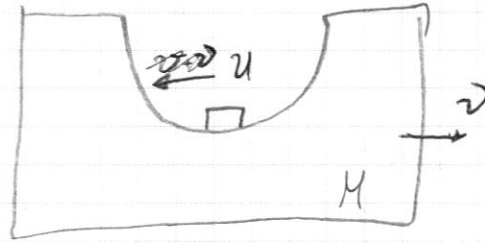
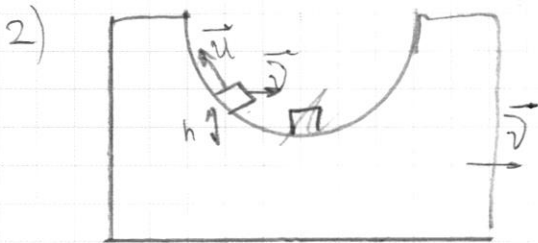
$$H = R \cdot \frac{M}{M+m}$$

~~$$H = \frac{R}{4} \quad ; \quad H = \frac{3R}{4}$$~~

Смотри
прод.

$\sqrt{3}$ (по 2)

$$H = R \cdot \frac{M}{M+m} ; H = R \cdot \frac{3m}{3m+m} ; H = \frac{3R}{4}$$



ЗСЭ $E_k = K_{max}$, при $u = max$, ~~и~~ при $h = 0$

ЗСЭ: ~~и~~ $\frac{m v_0^2}{2} = \frac{M v^2}{2} + E_k$ (это будет верно из ЗСЭ)

ЗСИ: $m v_0 = M v - m u ; (M v)^2 = m^2 (v_0^2 + u^2)$

$$\frac{m v_0^2}{2} = \frac{M^2 v^2}{2M} + \frac{m u^2}{2}$$

$$\frac{m v_0^2}{2} = \frac{m^2 (v_0^2 + u^2)}{2M} + \frac{m u^2}{2}$$

"6m"

$$\frac{v_0^2}{2} = \frac{v_0^2 + u^2 + 2v_0 u}{6} + \frac{m u^2}{2} \cdot 6$$

$$3v_0^2 = v_0^2 + u^2 + 2v_0 u + 3u^2$$

$$2v_0^2 - 4u^2 - 2v_0 u = 0$$

$$4u^2 + 2v_0 u - 2v_0^2 = 0$$

$$D = b^2 - 4ac = 4v_0^2 + 4 \cdot 4 \cdot 2v_0^2 = 4v_0^2 + 32v_0^2 = 36v_0^2$$

$$u = \frac{-2v_0 + 6v_0}{8} = \frac{4v_0}{8} = \frac{v_0}{2} = \sqrt{\frac{2gl}{4}}$$

См. макс

$$K_{max} = \frac{m u^2}{2} = \frac{m \cdot v_0^2}{8} = \frac{m \cdot 2gl}{8} = \frac{mgl}{4}$$

13

ПИСЬМЕННАЯ РАБОТА

Чистовик

№4 Дано:

1-2: изохора

2-3: адиабата

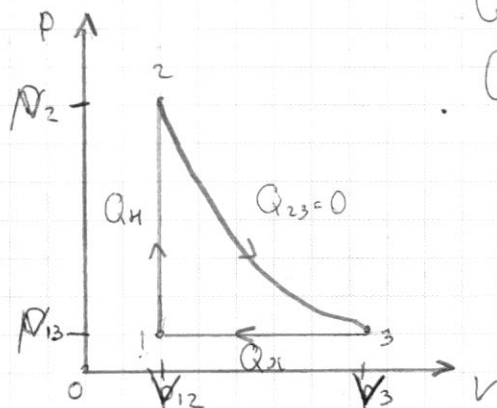
3-1: изобара

$$V_3 = nV_{12}$$

$$n = \sqrt{2} \quad n = 2\sqrt{2}$$

$$pV^{\frac{5}{3}} = \text{const}$$

Решение:



$$Q_H = Q_{\text{нагрев}}$$

$$Q_H = Q_{\text{охлажд}}$$

1) $\eta = ?$

$$\eta = \frac{A}{Q_H} = 1 - \frac{Q_{31}}{Q_{12}}$$

Для 2-3: $p_2 V_2^{\frac{5}{3}} = p_3 V_3^{\frac{5}{3}} \quad | \cdot 3$

$$p_2^3 V_2^5 = p_3^3 (nV_2)^5 \quad | : V_2^5$$

$$p_2^3 = p_3^3 \cdot n^5 \quad | \sqrt[3]{\quad}$$

$$p_2 = p_3 n^{\frac{5}{3}}$$

$$\nu R T_n = p_n V_n$$

I Начало термодинамики

$$Q_H = Q_{12} = \Delta U_{12} + A_{212}$$

$$Q_H = \frac{3}{2} \nu R (T_2 - T_1) = \frac{3}{2} (p_2 V_2 - p_3 V_2) = \frac{3}{2} p_3 V_2 (n^{\frac{5}{3}} - 1)$$

$$Q_{31} = Q_{31} = \Delta U_{31} + A_{231} = \frac{3}{2} \nu R (T_1 - T_3) + p_3 (V_2 - V_3)$$

$$= \frac{3}{2} (p_3 V_2 - p_3 V_3) + p_3 (V_2 - V_3) = 2 p_3 (V_2 - V_3) =$$

$$= 2 p_3 (V_2 - nV_2) = 2 p_3 V_2 (1 - n) \quad \text{Смотри прог.}$$

$\sqrt{4}$ (прог)

$$\eta = 1 + \frac{Q_x}{Q_H} = 1 + \frac{2 \rho_{13} V_{12} (1-n) \cdot 2}{3 \rho_{13} V_{12} (n^{5/3} - 1)}$$

$$\eta = 1 - \frac{4(n-1)}{3(n^{5/3} - 1)}$$

$$\eta = 1 - \frac{4(2\sqrt{2} - 1)}{3(\sqrt[3]{(2\sqrt{2})^5} - 1)} = 1 - \frac{4(2\sqrt{2} - 1)}{3(\sqrt[3]{64\sqrt{8}} - 1)} = 1 - \frac{4(2\sqrt{2} - 1)}{3(4\sqrt{8} - 1)}$$

~~$$= 1 - \frac{4(2\sqrt{2} - 1)}{3(\sqrt[3]{3((2\sqrt{2})^2 - 1^2)} - 1)} = 1 - \frac{4(2\sqrt{2} - 1)}{3(2\sqrt{2} - 1)(2\sqrt{2} + 1)}$$~~

$$\eta = 1 - \frac{4(2\sqrt{2} - 1)}{3(4\sqrt{2} - 1)} \quad \sqrt[3]{2} \approx 1,2$$

$$\sqrt{2} \approx 1,4$$

$$\eta \approx 1 - \frac{4(2 \cdot 1,4 - 1)}{3(4 \cdot 1,2 - 1)} = 1 - \frac{4(2,8 - 1)}{3(4,8 - 1)}$$

$$= 1 - \frac{4 \cdot 1,8}{3 \cdot 3,8} = 1 - \frac{4 \cdot 18}{3 \cdot 38} = 1 - \frac{12}{19} = \frac{7}{19} \approx \frac{7}{20}$$

$$= 0,35$$

Ответ: $\eta \approx 0,35$