



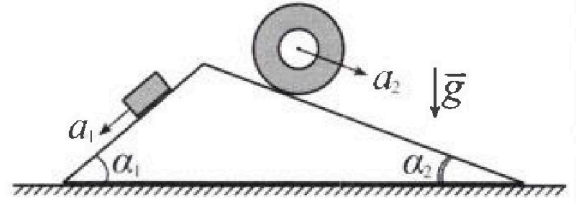
Олимпиада «Физтех» по физике, февраль 2024

Вариант 11-03



В ответах всех задач допустимы обыкновенные дроби и радикалы.

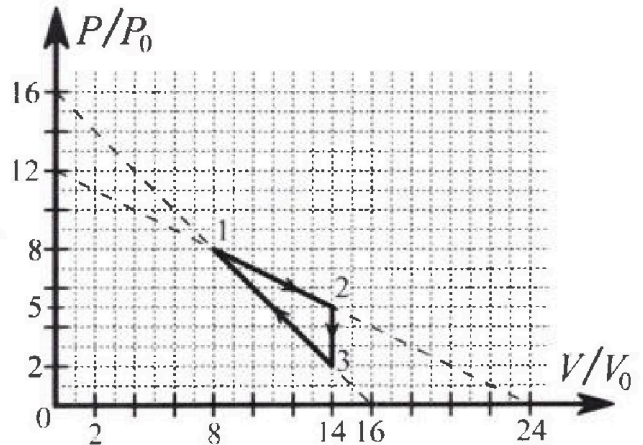
1. С клина, находящегося на шероховатом горизонтальном столе, соскальзывает брусок массой m с ускорением $a_1 = 6g/13$ и скатывается без проскальзывания полый цилиндр массой $2m$ с ускорением $a_2 = g/4$ (см. рис.). Клин остается в покое. Углы наклона поверхностей клина к горизонту α_1 ($\sin \alpha_1 = 3/5$, $\cos \alpha_1 = 4/5$) и α_2 ($\sin \alpha_2 = 5/13$, $\cos \alpha_2 = 12/13$). Направления всех движений лежат в одной вертикальной плоскости.



- 1) Найти силу трения F_1 между бруском и клином.
- 2) Найти силу трения F_2 между цилиндром и клином.
- 3) Найти силу трения F_3 между столом и клином.

Каждый ответ выразить через m и g с числовым коэффициентом в виде обыкновенной дроби.

2. С идеальным одноатомным газом совершают циклический процесс 1-2-3-1. На рисунке представлена зависимость P/P_0 от V/V_0 . Здесь V и P - объем и давление газа, V_0 и P_0 - некоторые неизвестные объем и давление.

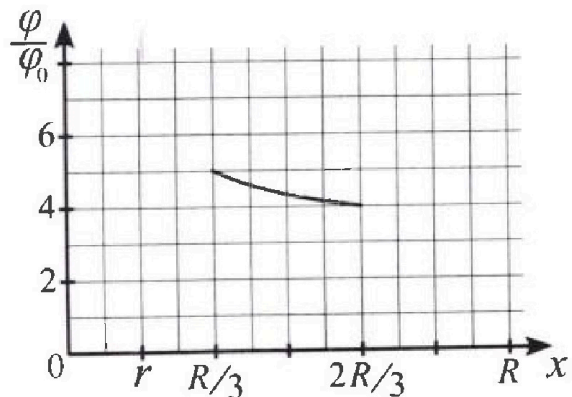
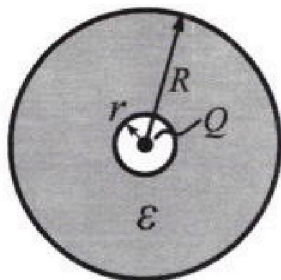


- 1) Найдите отношение модуля приращения внутренней энергии газа в процессе 1-2 к работе газа за цикл.
- 2) Найдите отношение максимальной температуры газа в процессе 1-2 к температуре газа в состоянии 3.
- 3) Найдите КПД цикла.

Ответы выразите числом в виде обыкновенной дроби или целого числа.

3. В центре полого шара с диэлектрической проницаемостью ϵ и радиусами поверхностей r и R находится шарик с зарядом Q (см. рис.). Известна графическая зависимость потенциала φ электрического поля внутри диэлектрика от расстояния x от центра полого шара в интервале изменений x от $R/3$ до $2R/3$ (см. рис.). Здесь φ_0 --- потенциал в некоторой точке вне шара. Потенциал в бесконечно удаленной точке принят равным нулю.

- 1) Считая известными r , R , Q , ϵ , найти аналитическое выражение (в виде формулы) для потенциала внутри диэлектрика при $x = 5R/6$.
- 2) Используя график, найти численное значение ϵ .





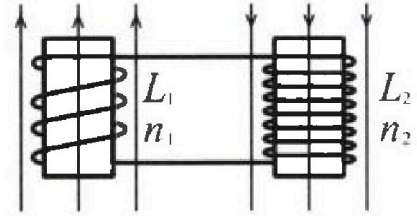
Олимпиада «Физтех» по физике, февраль 2024

Вариант 11-03



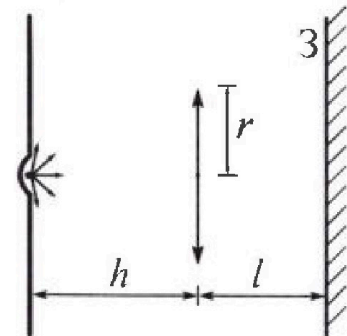
В ответах всех задач допустимы обыкновенные дроби
и радикалы.

4. Две катушки с индуктивностями $L_1 = L$ и $L_2 = 16L$ и числами витков $n_1 = n$ и $n_2 = 4n$ помещены во внешние однородные магнитные поля с постоянными во времени индукциями (см. рис.). Площадь витка каждой катушки S . Индукции внешних полей направлены перпендикулярно плоскостям витков катушек. Катушки находятся достаточно далеко друг от друга. Омическое сопротивление катушек и соединительных проводов пренебрежимо мало. Вначале тока в катушках нет.



- 1) С какой скоростью (по модулю) начнет изменяться ток в катушках, если в катушке с индуктивностью L_1 индукция внешнего поля начнет возрастать со скоростью $\Delta B / \Delta t = \alpha (\alpha > 0)$, а во второй катушке внешнее поле останется неизменным?
- 2) За некоторое время индукция внешнего поля в катушке с индуктивностью L_1 уменьшилась от B_0 до $B_0/3$, не изменив направления, а в катушке с индуктивностью L_2 индукция внешнего поля уменьшилась от $3B_0$ до $9B_0/4$, не изменив направления. Внешние поля в катушках изменялись неравномерно. Найти ток (по модулю) в катушках к концу изменения внешних полей. Ответ дать с числовым коэффициентом в виде обыкновенной дроби.

5. В стене сделана небольшая выемка, внутри которой находится маленькая лампочка так, что прямой свет от лампочки на стену не попадает (см. рис.). Справа от лампочки на некотором расстоянии h расположена тонкая собирающая линза с фокусным расстоянием $F = h/3$. Главная оптическая ось линзы горизонтальна и проходит через лампочку. Радиус линзы $r = 5$ см. Справа от линзы на расстоянии $l = 2h/3$ расположено параллельно стене плоское зеркало Z . Считать, что свет, идущий мимо линзы, проходит плоскость линзы беспрепятственно. Размеры стены и зеркала намного больше размеров линзы.



- 1) Найдите площадь неосвещённой части зеркала.
- 2) Найдите площадь неосвещённой части стены.

Ответы дайте в $[см^2]$ в виде $\gamma\pi$, где γ - целое число или простая обыкновенная дробь.



На одной странице можно оформлять только одну задачу. Отметьте крестиком номер задачи, решение которой представлено на странице. Также укажите номер страницы и суммарное количество страниц в решении каждой задачи отдельно.

1 2 3 4 5 6 7

СТРАНИЦА
1 из 2

Если отмечено более одной задачи или не отмечено ни одной задачи, страница считается черновиком и не проверяется. Страницы по каждой из задач нумеруются отдельно. Порча QR-кода недопустима!

№1) Дано:

$a_1 = 6g/13$
 $m, 2m$

$a_2 = g/4$
 $\sin \alpha_1 = 3/5$

$\cos \alpha_1 = 4/5$

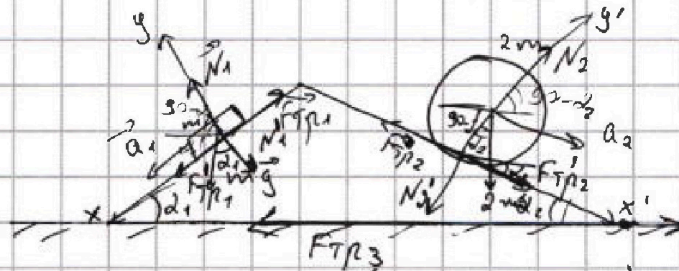
$\sin \alpha_2 = 5/13$

$\cos \alpha_2 = 12/13$

1) $F_1 = ?$

2) $F_2 = ?$

3) $F_3 = ?$



1) 2 3Идм бруска

$Ox': mg \cdot \sin \alpha_1 - F_{тр1} = ma_1$

$Oy: N_1 = mg \cdot \cos \alpha_1$

$F_{тр1} = m(g \cdot \sin \alpha_1 - a_1) = m(g \cdot \frac{3}{5} - \frac{6}{13}g)$

$\frac{3}{5} \cdot \frac{6}{13} = \frac{39-30}{65} = \frac{9}{65}$

$F_{тр1} = \frac{9}{65} mg$; $F_{тр1} \rightarrow F_1 \Rightarrow F_1 = \frac{9}{65} mg$

2) 2 3Идм цилиндр:

Теорема о вращении

$Ox': N_2 + 2mg + F_{тр2} = 2m \cdot a_{ц.м}$

$Ox'': 2mg \cdot \sin \alpha_2 - F_{тр2} = 2ma_2$

$F_{тр2} = 2m(g \cdot \sin \alpha_2 - a_2) =$

$= 2m \cdot (g \cdot \frac{5}{13} - \frac{1}{4}g) =$

$= 2 \cdot \frac{52}{26} mg - \frac{26}{26} mg$; $F_{тр2} \rightarrow F_2 \Rightarrow F_2 = \frac{7}{26} mg$

• Т.к. цилиндр полный \Rightarrow \Rightarrow вся его масса концентрируется на ободе \Rightarrow 2мг приложена к центру цилиндра.

• При этом $a_{ц.м} = a_2$

• При этом $F_{тр2}$ - сила трения покоя, т.к. цилиндр движется без проскальзывания.

$\frac{5 \cdot 14}{13} - \frac{1 \cdot 13}{4} = \frac{20-13}{52} = \frac{7}{52}$

3) Расставим силы, действующие на клин. Будем обозначать все как F' (силы с запятой).

Клин находится в покое $\Rightarrow \sum \vec{F}_{кл} = 0$

$\vec{N}_1' + \vec{F}_{тр2}' + \vec{N}_2' + \vec{F}_{тр1}' = 0$. 2 3Идм клина на Ox'' :

$F_{тр2}' \cdot \cos \alpha_2 - N_2' \cdot \sin \alpha_2 - F_{тр1}' \cdot \cos \alpha_1 + N_1' \cdot \sin \alpha_1 = 0$

По 3 закону Ньютона. $F_{тр2}' = F_{тр2}$; $F_{тр1}' = F_{тр1}$; $N_2' = N_2$; $N_1' = N_1$

$F_{тр2} = \frac{7}{26} mg$; $F_{тр1} N_1 = mg \cdot \cos \alpha_1 = \frac{4}{5} mg$

$F_{тр1} = \frac{9}{65} mg$; $N_2 = 2mg \cdot \cos \alpha_2 = 2 \cdot \frac{12}{13} mg = \frac{24}{13} mg$



На одной странице можно оформлять только одну задачу. Отметьте крестиком номер задачи, решение которой представлено на странице. Также укажите номер страницы и суммарное количество страниц в решении каждой задачи отдельно.

1 2 3 4 5 6 7

СТРАНИЦА
2 ИЗ 2

Если отмечено более одной задачи или не отмечено ни одной задачи, страница считается черновиком и не проверяется. Страницы по каждой из задач нумеруются отдельно. Порча QR-кода недопустима!

$$\frac{7}{26} mg \cdot \cos \alpha_2 - \frac{24}{13} mg \cdot \sin \alpha_2 - \frac{9}{65} mg \cdot \cos \alpha_1 + \frac{4}{5} mg \cdot \sin \alpha_1 - F_{Tр3} = 0$$

$$F_{Tр3} = mg \left(\frac{7}{26} \cdot \cos \alpha_2 + \frac{4}{5} \cdot \sin \alpha_1 - \frac{24}{13} \cdot \sin \alpha_2 - \frac{9}{65} \cdot \cos \alpha_1 \right);$$

Если $F_{Tр3}$ получится отрицательной \Rightarrow мы её направим не в ту сторону.

$$F_{Tр3} = mg \left(\frac{7}{26} \cdot \frac{12}{13} + \frac{4}{5} \cdot \frac{3}{5} - \frac{24}{13} \cdot \frac{5}{13} - \frac{9}{65} \cdot \frac{4}{5} \right)$$

Получаем, что $F_{Tр3} = \frac{282}{65} mg$, это и есть $F_3 = \frac{282}{65} mg$

Ответ: 1) $F_1 = \frac{9}{65} mg$

2) $F_2 = \frac{7}{26} mg$

3) $F_3 = \frac{282}{65} mg$

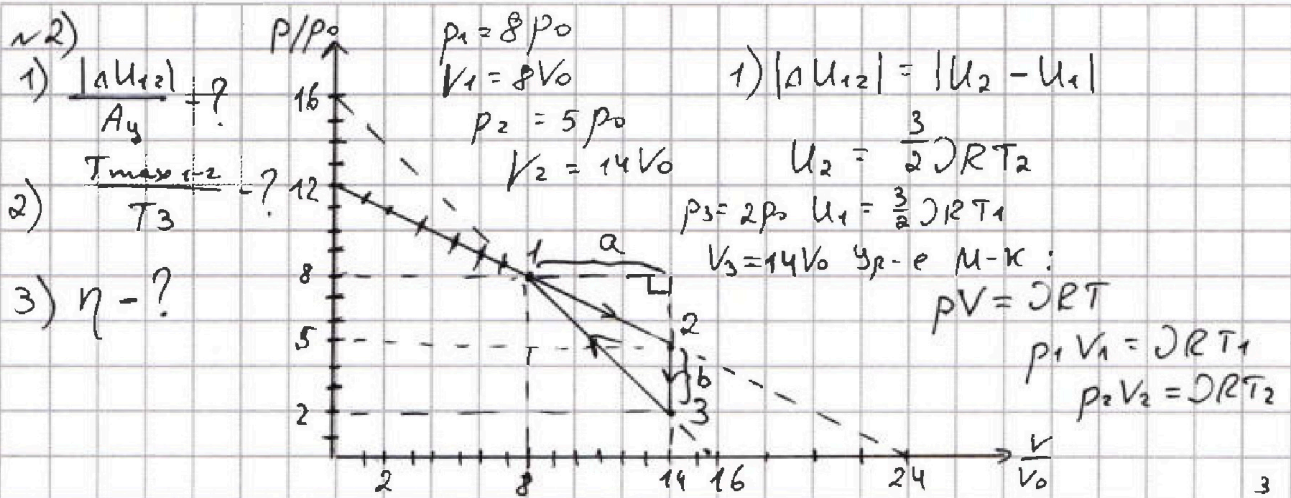


На одной странице можно оформлять только одну задачу. Отметьте крестиком номер задачи, решение которой представлено на странице. Также укажите номер страницы и суммарное количество страниц в решении каждой задачи отдельно.

1 2 3 4 5 6 7

СТРАНИЦА
1 ИЗ 3

Если отмечено более одной задачи или не отмечено ни одной задачи, страница считается черновиком и не проверяется. Страницы по каждой из задач нумеруются отдельно. Порча QR-кода недопустима!



$$\mathcal{D}RT_1 = 64 p_0 V_0$$

$$\mathcal{D}RT_2 = 70 p_0 V_0$$

$$|\Delta U_{12}| = \frac{3}{2} (\mathcal{D}RT_2 - \mathcal{D}RT_1) = \frac{3}{2} p_0 V_0 (70 - 64) = 9 p_0 V_0$$

A_y - площадь фигуры на графике. $A_y = \frac{1}{2} a \cdot b$

$$a = V_2 - V_1 = 14V_0 - 8V_0 = 6V_0$$

$$A_y = \frac{1}{2} \cdot 6V_0 \cdot 3p_0 = 9p_0 V_0$$

$$b = |p_3 - p_2| = 5p_0 - 2p_0 = 3p_0$$

$$\frac{|\Delta U_{12}|}{A_y} = \frac{9p_0 V_0}{9p_0 V_0} = 1$$

2) Найдем T_3 : $p_3 V_3 = \mathcal{D}RT_3 \Rightarrow T_3 = \frac{p_3 V_3}{\mathcal{D}R} = \frac{28 p_0 V_0}{\mathcal{D}R}$

Найдем T_{max} в процессе 1-2: $p(V) = p_0 - \kappa V$

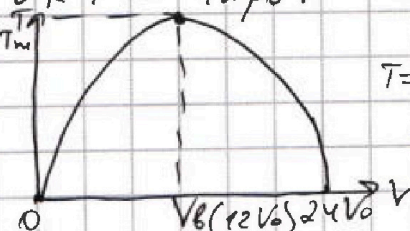
κ из графика: $\kappa = \frac{1}{2} \frac{p_0}{V_0}$

$$p(V) = 12 p_0 - \frac{1}{2} \frac{p_0}{V_0} \cdot V$$

$p_1 = 12 p_0$

$$pV = \mathcal{D}RT \Rightarrow 12 p_0 V - \frac{1}{2} \frac{p_0}{V_0} \cdot V^2 = \mathcal{D}RT$$

$$T(V) = \frac{p_0 (12V - \frac{V^2}{2V_0})}{\mathcal{D}R}$$



$T=0$ при $V=0$
и $12V - \frac{V^2}{2V_0} = 0$

$$\frac{V}{2V_0} = 12 \Rightarrow V = 24V_0$$

Т.к. парабола симм-на от-но $V_B \Rightarrow V_B = 12V_0$

при $V = 24V_0$

$$T_{max} = T(12V_0) = \frac{p_0 \cdot (12 \cdot 12V_0 - \frac{(12V_0)^2}{2V_0})}{\mathcal{D}R} = \frac{72 p_0 V_0}{\mathcal{D}R}$$



На одной странице можно оформлять только одну задачу. Отметьте крестиком номер задачи, решение которой представлено на странице. Также укажите номер страницы и суммарное количество страниц в решении каждой задачи отдельно.

1 2 3 4 5 6 7

СТРАНИЦА
2 из 3

Если отмечено более одной задачи или не отмечено ни одной задачи, страница считается черновиком и не проверяется. Страницы по каждой из задач нумеруются отдельно. Порча QR-кода недопустима!

Ответ: 1) $\frac{\Delta U_{12}}{A_{12}} = 1$

$$T_{\max} = \frac{72 p_0 V_0}{28 p_0 V_0} = \frac{72}{28} = \frac{18}{7}$$

$$\frac{T_{\max}}{T_3} = \frac{72}{28} = \frac{18}{7}$$

2) $\frac{T_{\max 1-2}}{T_3} = \frac{18}{7}$

3) $\eta = \frac{A_{12}}{Q_{12}}$ В процессе 2-3: $Q_{23} = Q_{\pi}$ т.к. $T \downarrow$ и $C = \text{const} = \frac{3}{2} R$
Найдем Q_{12} :

$$Q = \Delta U + A$$

$$\delta Q = dU + \delta A$$

$$dU = \frac{3}{2} p R dT$$

$$\delta A = p dV$$

$$d(pRT) = d(pV)$$

$$pR dT = p dV + V dp$$

$$\Rightarrow \delta Q = \frac{3}{2} (p dV + V dp) + p dV = \frac{5}{2} p dV + \frac{3}{2} V dp$$

$$p(V) = 12 p_0 - \frac{1}{2} \frac{p_0}{V_0} \cdot V$$

$$dp = -\frac{1}{2} \frac{p_0}{V_0} \cdot dV$$

$$\delta Q = \frac{1}{2} \left(5 \cdot \left(12 p_0 - \frac{1}{2} \frac{p_0}{V_0} \cdot \frac{1}{2} V \right) \cdot dV + 3 \left(-\frac{1}{2} \frac{p_0}{V_0} \cdot dV \right) \cdot V \right)$$

$$\delta Q = 30 p_0 dV - 2 p_0 V dV \rightarrow \text{интегрируем:}$$

$$Q = \int_{8V_0}^V 30 p_0 dV - \int_{8V_0}^V \frac{2 p_0 V}{V_0} dV = 30 p_0 (V - 8V_0) - \frac{2 p_0}{2 V_0} (V^2 - (8V_0)^2)$$

$$Q = 30 p_0 V - 240 p_0 V_0 + \left(\frac{p_0}{V_0} V^2 + \frac{64}{32} p_0 V_0^2 \right) \cdot \frac{1}{V_0}$$

$$Q = 30 p_0 V - 240 p_0 V_0 - \frac{p_0}{32 V_0} V^2 + 89 p_0 V_0$$

$$Q(V) = p_0 \left(\frac{V^2}{32 V_0} + 30V - \frac{208}{32} V_0 \right) \text{ - зав-ть суммарного } Q \text{ от } V$$

это парабола. Найдем при каком V Q мин \rightarrow макс

$$\frac{V}{32} = \frac{-30}{-2} = 15 V_0 \quad V_{\text{B}} = \frac{-30}{-2} V_0 = 15 V_0 \Rightarrow \text{В процессе}$$

1-2 газ все время будет нагреваться тепло.

$$Q_{12} = p_0 \left(\frac{15 V_0}{32} + 30 \cdot 15 - \frac{208}{32} V_0 \right) = 49 p_0 V_0$$

Продолжение см. на другом листе.



На одной странице можно оформлять только одну задачу. Отметьте крестиком номер задачи, решение которой представлено на странице. Также укажите номер страницы и суммарное количество страниц в решении каждой задачи отдельно.

1 2 3 4 5 6 7

СТРАНИЦА
3 ИЗ 3

Если отмечено более одной задачи или не отмечено ни одной задачи, страница считается черновиком и не проверяется. Страницы по каждой из задач нумеруются отдельно. Порча QR-кода недопустима!

№2) Рассмотрим процесс 3-1:

$$p(V) = 16p_0 - \frac{p_0}{V_0}V \Rightarrow dp = -\frac{p_0}{V_0}dV$$

$$\left\{ \begin{array}{l} \delta Q = \delta A + dU \\ dU = \frac{3}{2}DRdT \\ \delta A = pdV \\ DRdT = pdV + Vdp \end{array} \right. \Rightarrow \delta Q = \frac{5}{2}pdV + \frac{3}{2}Vdp;$$

$$\delta Q = \frac{5}{2}(16p_0 - \frac{p_0}{V_0}V)dV + \frac{3}{2} \cdot (-\frac{p_0}{V_0}dV) \cdot V$$

$$\delta Q = 40p_0dV - \frac{5}{2}\frac{p_0}{V_0}VdV - \frac{3}{2}\frac{p_0}{V_0}VdV = 40p_0dV - 4\frac{p_0}{V_0}VdV$$


$$Q = \int_{8V_0}^{14V_0} 40p_0dV - 4\frac{p_0}{V_0} \int_{8V_0}^{14V_0} VdV = 40p_0(V - 8V_0) - 4\frac{p_0}{V_0} \left(\frac{V^2}{2} - \frac{(8V_0)^2}{2} \right)$$

$$Q = 40p_0V - 320p_0V_0 - \frac{2p_0}{V_0} \cdot V^2 + 128p_0V_0 =$$

$$= -\frac{2p_0}{V_0}V^2 - 192p_0V_0 + 40p_0V$$

$$Q \rightarrow \max \text{ при } V = -\frac{-40p_0}{2 \cdot \frac{2p_0}{V_0}} = 10V_0$$

\Rightarrow от $14V_0$ до $10V_0$ газ ~~сжимает~~ ^{отдаёт} ~~получает~~ ^{темпл.}



$$Q_{12} = 40p_0(10V_0 - 8V_0) - \frac{2p_0}{V_0} \cdot \frac{1}{2}((10V_0)^2 - (8V_0)^2) =$$

$$= 80p_0V_0 - 72p_0V_0 = 8p_0V_0$$

Получает темпл.
газ ~~кажет~~ ^{от} ~~10V_0~~ ^{до} ~~8V_0~~

$$Q_H = Q_{12} + Q_{31} = 43p_0V_0 + 8p_0V_0 = 51p_0V_0$$

$$\eta = \frac{A_4}{Q_H} = \frac{3p_0V_0}{51p_0V_0} = \frac{3}{17}$$

Ответ: 3) ~~$\eta = \frac{3}{17}$~~ $\eta = \frac{3}{57}$



На одной странице можно оформлять только одну задачу. Отметьте крестиком номер задачи, решение которой представлено на странице. Также укажите номер страницы и суммарное количество страниц в решении каждой задачи отдельно.

1 2 3 4 5 6 7

СТРАНИЦА
1 ИЗ 2

Если отмечено более одной задачи или не отмечено ни одной задачи, страница считается черновиком и не проверяется. Страницы по каждой из задач нумеруются отдельно. Порча QR-кода недопустима!

14) Дано:

$$L_1 = L$$

$$L_2 = 16L$$

$$n_1 = n$$

$$n_2 = 4n$$

S

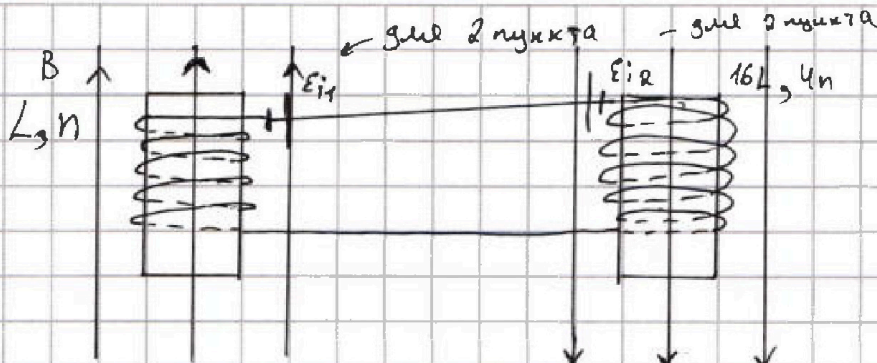
1) $|I'|$ - ?

$$\frac{\Delta B}{\Delta t} = \alpha, \uparrow$$

$$2) B_0 \rightarrow B_0/3 \quad (\downarrow)$$

$$3B_0 \rightarrow 3B_0/4$$

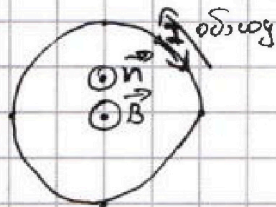
I - ?



1) Рассмотрим один виток первой катушки:

Вид сверху

$$\epsilon_i = - \frac{\Delta \Phi}{\Delta t}$$



$$\Phi = B \cdot S \cdot \cos \alpha = B \cdot S$$

т.к. $\vec{n} \uparrow \uparrow \vec{B}$

$$\epsilon_i = - \frac{\Delta(B \cdot S)}{\Delta t} = - S \frac{\Delta B}{\Delta t}$$

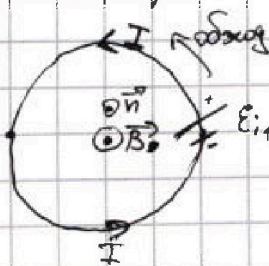
ϵ_i получили отриц. т.к.

ток течет против обхода. Возьмем ϵ_i по модулю

$$\epsilon_i = B \cdot S \cdot \alpha \text{ - от одного витка } \Rightarrow \text{от } n \text{ витков полное } \epsilon_{i_{\text{пол}}} =$$

$$= S \cdot \alpha \cdot n; \quad \epsilon_{i_{\text{пол}}} = -L I' \Rightarrow |I'| = \frac{\epsilon_{i_{\text{пол}}}}{L} = \frac{S \cdot \alpha \cdot n}{L}$$

2) Рассмотрим один виток первой катушки:



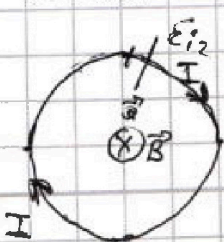
$$\epsilon_i = - \frac{\Delta \Phi}{\Delta t}; \quad \Phi = B \cdot S \cdot \cos \alpha = B \cdot S$$

$$\epsilon_{i_1} = - \frac{\Delta(B \cdot S)}{\Delta t} = - S \cdot \frac{\Delta B}{\Delta t} \quad \text{- } \epsilon_i \text{ от одного}$$

$$\Rightarrow \text{от } n \text{ витков } \epsilon_{i_{\text{пол}}} = - S \cdot n \cdot \frac{\Delta B}{\Delta t}$$

$$\epsilon_{i_{\text{пол}}} = -L I' \Rightarrow I'$$

Рассмотрим один виток второй катушки



$$\epsilon_i = - \frac{\Delta \Phi}{\Delta t}, \quad \Phi = B \cdot S$$

$$\epsilon_i = - S \frac{\Delta B}{\Delta t} \quad \text{- от одного витка } \Rightarrow$$

$$\Rightarrow \text{от } 4n \text{ витков } \epsilon_{i_2} = - S \cdot 4n \frac{\Delta B}{\Delta t}$$



На одной странице можно оформлять только одну задачу. Отметьте крестиком номер задачи, решение которой представлено на странице. Также укажите номер страницы и суммарное количество страниц в решении каждой задачи отдельно.

1 2 3 4 5 6 7

СТРАНИЦА
2 ИЗ 2

Если отмечено более одной задачи или не отмечено ни одной задачи, страница считается черновиком и не проверяется. Страницы по каждой из задач нумеруются отдельно. Порча QR-кода недопустима!

На рисунках λ обозначим \mathcal{E}_i , где $\mathcal{E}_{i,1}$ - падкая \mathcal{E}_i от левой катушки, а $\mathcal{E}_{i,2}$ - падкая \mathcal{E}_i от второй катушки.

Эти \mathcal{E}_i будут стараться ехать теми же самыми сторонами

$$\mathcal{E}_{\text{экв}} = \mathcal{E}_{i,1} - \mathcal{E}_{i,2}. \text{ Т.к. выгале тока нет } \Rightarrow L_{\text{экв}} = L_1 + L_2 =$$

$$= L + 16L = 17L$$

$$\mathcal{E}_{\text{экв}} = L_{\text{экв}} I' ; \quad I' = \frac{\Delta I}{\Delta t}$$

$$\Rightarrow \mathcal{E}_{\text{экв}} \Delta t = 17L \cdot \Delta I$$

$$(\mathcal{E}_{i,1} - \mathcal{E}_{i,2}) \Delta t = 17L \cdot \Delta I ; \quad \mathcal{E}_{i,1} = -S_n \cdot \frac{\Delta B_1}{\Delta t}$$

$$\frac{-S_n}{\Delta t} \Delta t (\Delta B_1 - 4 \Delta B_2) = 17L \Delta I ; \quad \mathcal{E}_{i,2} = -4 S_n \frac{\Delta B_2}{\Delta t}$$

$$-S_n (\Delta B_1 - 4 \Delta B_2) = 17L \Delta I \quad - \text{просуммируем от начала до конца.}$$

$$-S_n \Delta B_1 + 4 S_n \Delta B_2 = 17L I \quad - \text{тока выгале не было}$$

$$-S_n \left(\frac{B_0}{3} - B_0 \right) + 4 S_n \left(\frac{3B_0}{4} - 3B_0 \right) = 17L I \quad | : S_n$$

$$\left(B_0 - \frac{B_0}{3} \right) - 4 \left(3B_0 - \frac{9B_0}{4} \right) = 17 \frac{L I}{S_n} ;$$

$$\frac{2}{3} B_0 + 3 B_0 = 17 \frac{L I}{S_n} \Rightarrow -\frac{7}{3} B_0 = 17 \frac{L I}{S_n}$$

$$I = -\frac{17 \cdot 7 B_0 \cdot S_n}{17 \cdot 3 L} = -\frac{7 B_0 S_n}{153 L}$$

Ток получился отрицательным \Rightarrow Он течёт против $\mathcal{E}_{i,1}$

$$\text{Ответ: 1) } |I'| = \frac{S_n \cdot \Delta B_n}{L}$$

$$2) |I| = \frac{7 B_0 S_n}{153 L}$$



На одной странице можно оформлять только одну задачу. Отметьте крестиком номер задачи, решение которой представлено на странице. Также укажите номер страницы и суммарное количество страниц в решении каждой задачи отдельно.

1 2 3 4 5 6 7

СТРАНИЦА
1 ИЗ 2

Если отмечено более одной задачи или не отмечено ни одной задачи, страница считается черновиком и не проверяется. Страницы по каждой из задач нумеруются отдельно. Порча QR-кода недопустима!

5) Дано:
 $F = \frac{h}{3}$ керс
 $r = 5 \text{ см}$
 $L = \frac{2h}{3}$
 1) Sнеос. 3-?
 2) Sнеос. с-?

1) Найдем изображение S^* керс. путем. S в линзе.
 3) т.к. $d = h > F = \frac{h}{3} \Rightarrow$
 \Rightarrow изображение действ.
 $\frac{1}{f} = \frac{1}{d} + \frac{1}{F}$
 $f = \frac{Fd}{d-F} = \frac{\frac{h}{3} \cdot h}{h - \frac{h}{3}} = \frac{h^2/3}{\frac{2h}{3}} = \frac{h}{2}$
 Изобразим окуляр.

2) Из подобия Δ :
 $\frac{f}{f-F} = \frac{x}{h/2} = \frac{r}{h/6} = 3 \Rightarrow x = \frac{r}{3}$

3) $S_{неос. 3} = S_y - S_x$
 $S_y = \pi \cdot y^2 = \frac{25}{9} \pi r^2$
 $S_x = \pi x^2 = \frac{1}{9} \pi r^2$

Из подобия:
 $\frac{h+L}{h} = \frac{y}{r} \Rightarrow \frac{y}{r} = \frac{5}{3} \Rightarrow y = \frac{5}{3}r$
 $S_{неос. 3} = \frac{25}{9} \pi r^2 - \frac{1}{9} \pi r^2 = \frac{24}{9} \pi r^2 = \frac{248}{81} \cdot 25 \cdot \pi = \frac{200}{3} \pi$
 $S_{неос. 3} = \frac{200}{3} \pi \text{ см}^2$

4) Изображение S^{**} предмета S^* в зеркале будет мнимым и будет находиться на таком же расстоянии от зеркала, как и S^{**} . Изобразим S^{**} .

5) Найдем изображение S^{***} действ. предмета S^{**} дил. л.
 $d' = L + f - f = 2L - f = 2 \cdot \frac{2}{3}h - \frac{h}{2} = \frac{4}{3}h - \frac{h}{2} = \frac{8-3}{6}h$
 $d' = \frac{5}{6}h$. $d' > F \Rightarrow$ изображение S^{***} - действ.
 $\frac{1}{F} = \frac{1}{d'} + \frac{1}{f'} \Rightarrow f' = \frac{Fd'}{d' - F} = \frac{5}{9}h$



На одной странице можно оформлять только одну задачу. Отметьте крестиком номер задачи, решение которой представлено на странице. Также укажите номер страницы и суммарное количество страниц в решении каждой задачи отдельно.

1 2 3 4 5 6 7

СТРАНИЦА
2 ИЗ 2

Если отмечено более одной задачи или не отмечено ни одной задачи, страница считается черновиком и не проверяется. Страницы по каждой из задач нумеруются отдельно. Порча QR-кода недопустима!

Из подобия Δ :

$$\frac{y'}{r} = \frac{h+2L-f}{2L-f} = \frac{11}{5} \Rightarrow y' = \frac{11}{5}r = 11 \text{ см}$$

Из подобия Δ :

$$\frac{f'}{h-f'} = \frac{r}{x'} \Rightarrow \frac{r}{x'} = \frac{5}{4} \Rightarrow x' = \frac{4}{5}r = 4 \text{ см}$$

$$S_{\text{неос.с}} = \pi y'^2 - \pi x'^2 = \pi (11^2 - 4^2) = 105\pi \text{ см}^2$$

Ответ: 1) $S_{\text{неос.з}} = \frac{200}{3}\pi \text{ см}^2$

2) $S_{\text{неос.с}} = 105\pi \text{ см}^2$



На одной странице можно оформлять только одну задачу. Отметьте крестиком номер задачи, решение которой представлено на странице. Также укажите номер страницы и суммарное количество страниц в решении каждой задачи отдельно.

1 2 3 4 5 6 7

СТРАНИЦА
из

Если отмечено более одной задачи или не отмечено ни одной задачи, страница считается черновиком и не проверяется. Страницы по каждой из задач нумеруются отдельно. Порча QR-кода недопустима!

$$\frac{5 \cdot 12 \rho_0 dV}{2} - \frac{\rho_0 V dV}{4 V_0} + \frac{3 \rho_0 V dV}{4 V_0}$$

$$30 \rho_0 dV - \rho_0 V dV$$

$$\begin{array}{r} 240 \\ - 32 \\ \hline 208 \end{array}$$

Из подобия А:

$$\frac{y'}{r} = \frac{h + L + L - f}{L + L - f} = \frac{h + 2L - f}{2L - f}$$

$$= \frac{h + \frac{4}{3}h - \frac{h}{2}}{\frac{4}{3}h - \frac{h}{2}} = \frac{\frac{11}{5}h}{\frac{5}{3}h} = \frac{11}{5}$$

$$15^2 - 2 \cdot 15^2 = -15^2$$

не забыть, что миска - круг!

$$\frac{1}{f} = \frac{1}{F} - \frac{1}{d} = \frac{d - F}{Fd}$$

$$f = \frac{Fd}{d - F}$$

$$f = \frac{h}{h}$$

$$\frac{h^3}{2} - \frac{2L^2}{3}h = \frac{3-4}{6} = \frac{1}{6}h$$

$$\frac{4}{3} - \frac{1}{2} = \frac{8-3}{6} = \frac{5}{6}$$

$$\frac{16}{6} - \frac{5}{6} = \frac{11}{6}$$

$$y' = \frac{11}{5}r = 11 \text{ см}$$

$$\begin{array}{r} 22 \cdot 5 \\ - 176 \\ \hline 49 \\ 320 \\ - 128 \\ \hline 192 \end{array}$$

$$\frac{5}{3}h$$

$$\frac{24}{25} \times \frac{25^4}{8}$$

$$\frac{h}{3} \cdot \frac{5}{6}h = \frac{5}{36}h^2 = \frac{5}{9}h$$

$$\frac{h^3}{6h} - \frac{h^2}{3} = \frac{1}{2}h$$

Из подобия А:

$$\frac{f'}{h-f'} = \frac{r}{x'} \Rightarrow \frac{r}{x'} = \frac{\frac{5}{9}}{\frac{4}{9}} = \frac{5}{4} \Rightarrow x' = \frac{4}{5}r = 4 \text{ см}$$

$$(11-4)(11+4) = 7 \cdot 15$$

$$\begin{array}{r} 49 \\ - 8 \\ \hline 57 \end{array}$$

$$\begin{array}{r} 15 \\ \times 7 \\ \hline 105 \end{array}$$

$$\frac{1}{2} \cdot \frac{1}{2} \cdot 5 = \frac{5}{4} V dV = 2 V dV$$

$$16 \rho_0 - kV$$

$$16 \rho_0 - \frac{\rho_0}{V_0} V$$

$$\begin{array}{r} 240 \\ - 64 \\ \hline 176 \end{array}$$

$$\frac{64}{2} = 32$$

$$\begin{array}{r} 32 \\ \times 4 \\ \hline 128 \end{array}$$

$$\begin{array}{r} 35 \\ + 70 \\ \hline 105 \\ - 225 \end{array}$$

$$2 \cdot (100 - 64) = 72$$

$$\begin{array}{r} 320 \\ - 128 \\ \hline 192 \end{array}$$

$$15^2 - 15^2 \cdot 2 = -15^2$$

$$\begin{array}{r} 100 \\ - 64 \\ \hline 36 \end{array}$$

$$40 \lfloor 2$$

$$\begin{array}{r} 225 \\ - 176 \\ \hline 49 \end{array}$$



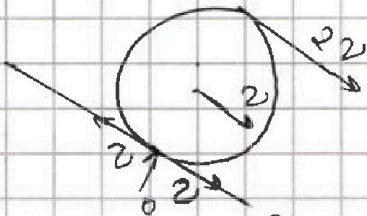
На одной странице можно оформлять только одну задачу. Отметьте крестиком номер задачи, решение которой представлено на странице. Также укажите номер страницы и суммарное количество страниц в решении каждой задачи отдельно.

1 2 3 4 5 6 7

СТРАНИЦА
из

Если отмечено более одной задачи или не отмечено ни одной задачи, страница считается черновиком и не проверяется. Страницы по каждой из задач нумеруются отдельно. Порча QR-кода недопустима!

Черновик



$$2mg \cdot \sin \alpha_2 + F_{TP} = 2mg_2$$

$$F_{TP} = 2m \left(\frac{g}{4} - g \cdot \frac{5}{13} \right) =$$

$$= \frac{13}{13}$$

$$\frac{7}{26} mg \cdot \cos \alpha_2 - \frac{24}{13} mg \cdot \frac{1}{13} \sin \alpha_2 - \frac{9}{65} mg \cdot \frac{4}{5} \cos \alpha_2 + \frac{4}{5} mg \cdot \sin \alpha_2$$

$$\frac{7}{13} \cdot \frac{13}{13} mg - \frac{24}{13} \cdot \frac{1}{13} mg - \frac{9}{65} \cdot \frac{4}{5} mg + \frac{4}{5} \cdot \frac{3}{5} mg - F_{TP} = 0$$

$$\left(\frac{7 \cdot 6 \cdot 13^2}{13^2} - \frac{24 \cdot 5 \cdot 13}{13^2} - \frac{9 \cdot 4 \cdot 13}{5^2 \cdot 13} + \frac{4 \cdot 3 \cdot 13^2}{5^2} \right) mg = F_{TP} \cdot 3$$

$$F_{TP} \cdot 3 = \frac{42 \cdot 5^2 - 24 \cdot 5^3 - 9 \cdot 4 \cdot 13 + 4 \cdot 3 \cdot 13^2}{13^2}$$

$$= \frac{(42 - 24 \cdot 5)}{13^2} + \frac{(4 \cdot 3 \cdot 13 - 9 \cdot 4)}{5^2}$$

$$= \frac{6}{13} + \frac{24}{5}$$

$$\frac{24 \cdot 13}{5} - \frac{6 \cdot 13}{13} = \frac{312 - 78}{65 \cdot 13}$$

$$\frac{234}{5 \cdot 13} = \frac{234}{65} mg$$

$$\frac{234}{22} \cdot \frac{13}{2}$$

$$\frac{11}{20} = \frac{20}{20} = \frac{20}{20}$$

$$12^2 - \frac{12^2}{2} = 12^2 \cdot \frac{1}{2}$$

$$= 144 \cdot \frac{1}{2} = 72$$

$$T_m = \frac{72 \mu_0 I_0}{2R}$$

$$I_3 = \frac{28 \mu V}{2R}$$

$$\begin{array}{r} 24 \\ \times 5 \\ \hline 120 \\ \times 13 \\ \hline 156 \\ \times 13 \\ \hline 2016 \end{array}$$

$$\begin{array}{r} 156 \\ \times 6 \\ \hline 936 \end{array}$$

$$\begin{array}{r} 120 \\ \times 13 \\ \hline 1560 \\ \times 13 \\ \hline 20160 \end{array}$$

$$\begin{array}{r} 24 \\ \times 13 \\ \hline 312 \\ \times 13 \\ \hline 4056 \end{array}$$

$$(14 - 10)(14 + 10) = \frac{64}{113}$$

$$\begin{array}{r} 24 \\ \times 4 \\ \hline 96 \\ \times 16 \\ \hline 384 \end{array}$$



На одной странице можно оформлять только одну задачу. Отметьте крестиком номер задачи, решение которой представлено на странице. Также укажите номер страницы и суммарное количество страниц в решении каждой задачи отдельно.

1 2 3 4 5 6 7

СТРАНИЦА
__ ИЗ __

Если отмечено более одной задачи или не отмечено ни одной задачи, страница считается черновиком и не проверяется. Страницы по каждой из задач нумеруются отдельно. Порча QR-кода недопустима!

$$12 B_0 - 9 B_0 = 3 B_0$$

$$\begin{matrix} 13 & 2 \\ 3 B_0 & - 3 B_0 = \frac{7}{9} B_0 \end{matrix}$$

$$\begin{array}{r} 176 \\ \times 9 \\ \hline 153 \end{array}$$

$$\varphi = BS$$

$$\Delta \varphi = E \Delta t$$

$$\Delta BS \cdot n = L I \Rightarrow$$

$$\Delta l = \beta E d r$$

