



МОСКОВСКИЙ
ФИЗИКО-ТЕХНИЧЕСКИЙ
ИНСТИТУТ

ОЛИМПИАДА "ФИЗТЕХ"
ПО МАТЕМАТИКЕ

11 КЛАСС. Вариант 1



1. [3 балла] Найдите все действительные значения x , при каждом из которых существует геометрическая прогрессия, состоящая из действительных чисел и такая, что её седьмой член равен $\sqrt{(25x-9)(x-6)}$, девятый член равен $x+3$, а пятнадцатый член равен $\sqrt{\frac{25x-9}{(x-6)^8}}$.

2. [4 балла] Решите систему уравнений

$$\begin{cases} \sqrt{x+5} - \sqrt{1-x-4z} + 4 = 2\sqrt{y-4x-x^2+z}, \\ |y+4| + 4|y-5| = \sqrt{81-z^2}. \end{cases}$$

3. [5 баллов] Найдите все значения параметра p , при которых уравнение

$$p \cos 3x + 3(p+4) \cos x = 6 \cos 2x + 10$$

имеет хотя бы одно решение. Решите это уравнение при всех таких p .

4. [5 баллов] Две окружности ω_1 и ω_2 пересекаются в точках A и B , а их общая касательная имеет с ω_1 и ω_2 общие точки C и D соответственно, причём точка B расположена ближе к прямой CD , чем точка A . Луч CB пересекает ω_2 в точках B и E . Найдите отношение $ED : CD$, если диагональ AD четырёхугольника $ACDE$ делит отрезок CE в отношении $2 : 5$, считая от вершины C .

5. [4 балла] Дан клетчатый прямоугольник 100×400 . Сколькими способами можно закрасить 8 клеток этого прямоугольника так, чтобы закрашенное множество обладало хотя бы одной из следующих симметрий: относительно центра прямоугольника, относительно любой из двух "средних линий" прямоугольника ("средней линией" прямоугольника назовём отрезок, соединяющий середины двух его противоположных сторон). Ответ дайте в виде выражения, содержащего не более трёх членов (в них могут входить факториалы, биномиальные коэффициенты).

6. [4 балла] Найдите все тройки целых чисел $(a; b; c)$ такие, что:

- $a < b$,
- число $b - a$ не кратно 3,
- число $(a - c)(b - c)$ является квадратом некоторого простого числа,
- выполняется равенство $a^2 + b = 710$.

7. [6 баллов] В основании призмы лежит равносторонний треугольник площади 1. Площади её боковых граней равны 3, 3 и 2. Найдите объём призмы.



На одной странице можно оформлять только одну задачу. Отметьте крестиком номер задачи, решение которой представлено на странице. Также укажите номер страницы и суммарное количество страниц в решении каждой задачи отдельно.

1 2 3 4 5 6 7

СТРАНИЦА
1 ИЗ 1

Если отмечено более одной задачи или не отмечено ни одной задачи, страница считается черновиком и не проверяется. Страницы по каждой из задач нумеруются отдельно. Порча QR-кода недопустима!

Пусть наша геом прогрессия: b, bq, \dots

$$\text{Тогда } \begin{cases} b \cdot q^6 = \sqrt{(25x-9) \cdot (x-6)} \\ b \cdot q^8 = x+3 \\ b \cdot q^{14} = \sqrt{\frac{25x-9}{(x-6)^3}} \end{cases}$$

ОДЗ: $x \notin \left(\frac{9}{25}; 6\right]$

Если $x = \frac{9}{25}$, то $bq^6 = 0 \Rightarrow \Rightarrow bq^8 = 0 \Rightarrow x = -3 \Rightarrow$ против.

$$\begin{cases} b = \frac{\sqrt{(25x-9) \cdot (x-6)}}{q^6} \\ b \cdot q^8 = x+3 \\ b \cdot q^{14} = \sqrt{\frac{25x-9}{(x-6)^3}} \end{cases}$$

$$\begin{cases} b = \frac{\sqrt{(25x-9) \cdot (x-6)}}{q^6} \\ \sqrt{(25x-9) \cdot (x-6)} \cdot q^2 = x+3 \\ \sqrt{(25x-9) \cdot (x-6)} \cdot q^8 = \sqrt{\frac{25x-9}{(x-6)^3}} \end{cases}$$

$$\begin{cases} b = \frac{\sqrt{(25x-9) \cdot (x-6)}}{q^6} \\ q^2 = \frac{x+3}{\sqrt{(25x-9) \cdot (x-6)}} \\ (x+3)^4 = \left(\frac{\sqrt{(25x-9) \cdot (x-6)}}{q^6}\right)^4 \cdot \sqrt{\frac{25x-9}{(x-6)^3}} \quad (*) \end{cases}$$

~~$x = \frac{9}{25}$~~ $(*) : (x+3)^4 = \frac{(\sqrt{(25x-9) \cdot (x-6)})^4}{\sqrt{(x-6)^4}}$

$$(x+3)^4 = \frac{((25x-9) \cdot (x-6))^2}{(x-6)^2}$$

$$x^4 + 12x^3 + 54x^2 + 108x + 81 = 125x^2 - 490x + 81$$

$$x^4 + 12x^3 - 71x^2 + 558x = 0 \quad \boxed{x_1 = 0}$$

$$x^3 + 12x^2 - 71x + 558 = 0$$

По формуле для корней кубич уравнения можно найти корни (неплохо можно не уrove. ОДЗ).

Ответ: 0 и ~~$x = -3$~~ ^{возможно еще несколько корней.}



На одной странице можно оформлять только одну задачу. Отметьте крестиком номер задачи, решение которой представлено на странице. Также укажите номер страницы и суммарное количество страниц в решении каждой задачи отдельно.

1 2 3 4 5 6 7

СТРАНИЦА
1 из 1

Если отмечено более одной задачи или не отмечено ни одной задачи, страница считается черновиком и не проверяется. Страницы по каждой из задач нумеруются отдельно. Порча QR-кода недопустима!

[5] Посчитаем кол-во вариантов, удовл. хотя бы 1 симметрии. Каждый такой вариант однозначно задается и клетками, стоящими в 1 из половин прямоугольника. Пиковых вариантов $3 \binom{4}{10000}$. Но некоторые варианты удовлетворяют хотя бы 2 симметриям и их мы посчитали несколько раз.

Легко проверить, что еще вариантами удовл. 2^{ой} симметрией, то он удовл. всем трем (посчитали количество по вертикали и горизонтали о центре закради. клетки до центра прямоугольника).

Вариант, удовл. 2-м осевым сечениями однозначно задается 2^{мя} клетками, стоящими

в дупле из 4 ячеек, на которые разбивают исходный 2-х ячеек лист. Пиковых вариантов $\binom{2}{10000}$ и каждой из них 3 раза вычито 1.

Итого ответ: $3 \binom{4}{20000} - 2 \binom{2}{10000}$

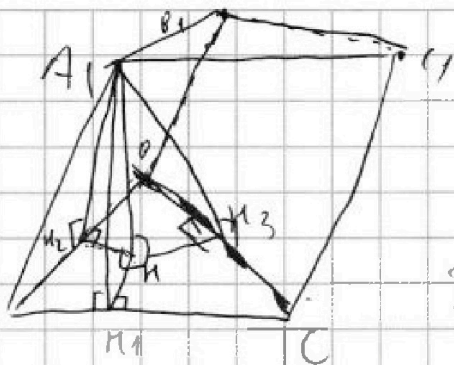


На одной странице можно оформлять только одну задачу. Отметьте крестиком номер задачи, решение которой представлено на странице. Также укажите номер страницы и суммарное количество страниц в решении каждой задачи отдельно.

1 2 3 4 5 6 7

СТРАНИЦА
1 из 1

Если отмечено более одной задачи или не отмечено ни одной задачи, страница считается черновиком и не проверяется. Страницы по каждой из задач нумеруются отдельно. Порча QR-кода недопустима!



Пусть наш пирамид
ABC A₁ H₁ H₂ H₃ и плоскости
пролей AA₁ H₁ H₂ и AA₁ H₂ H₃
навы.

Пусть AB = BC = CA = a ⇒

по Герону
⇒ $S_{ABC} = \sqrt{\frac{a+a+a}{2} \cdot \frac{a+a-a}{2} \cdot \frac{a+a-a}{2} \cdot \frac{a+a-a}{2}} = 1$

$$\frac{a^2}{4} \cdot \sqrt{3} = 1 \Rightarrow \boxed{a = \frac{2}{\sqrt{3}}}$$

Пусть A₁ H - высота ~~на~~ пирамиды
м. A₁. Опустим H H₁ ⊥ AC, H H₂ ⊥ AB, H H₃ ⊥ BC

м. K. AB = AC и S_{AA₁ H₁ H₂} = S_{AA₁ H₂ H₃} ⇒ A₁ H₁ = A₁ H₂

(м. к. по теор. о 3 ⊥ A₁ H₁ и A₁ H₂ - высоты
в равных паралл. м. AA₁ H₁ H₂ и AA₁ H₂ H₃)

$$H H_1 = \sqrt{A_1 H + A_1 H_1} = \sqrt{A_1 H + A_1 H_2} = H H_2$$

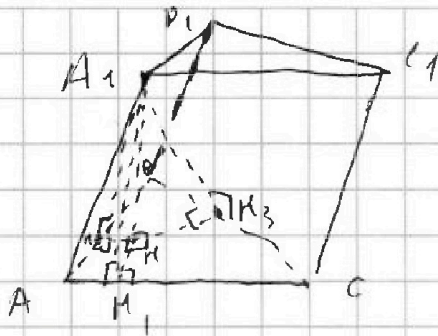


На одной странице можно оформлять только одну задачу. Отметьте крестиком номер задачи, решение которой представлено на странице. Также укажите номер страницы и суммарное количество страниц в решении каждой задачи отдельно.

1 2 3 4 5 6 7

СТРАНИЦА
1 из 1

Если отмечено более одной задачи или не отмечено ни одной задачи, страница считается черновиком и не проверяется. Страницы по каждой из задач нумеруются отдельно. Порча QR-кода недопустима!



Пусть падающая плоскость ~~ABCA1B1C1~~
 $ABCA_1B_1C_1$ и плоскости
 точек AA_1, B, B и AA_1, C_1
 равны.
 A_1H - высота призмы.

Длины $A_1H_1 \perp AC$; $A_1H_3 \perp BC$; $A_1H_2 \perp AB$.

И. т. $AC = AB$ и $S_{AA_1CB} = S_{AA_1B_1C}$ $\Rightarrow A_1H_1 =$

$= A_1H_2$ (и. т. по теор. о 3) A_1H_1 - высота перпендикулярная AA_1, C и A_1H_2 - высота перпендикулярная AA_1, B

~~Пусть~~ Пусть $A_1H = L$; $A_1H_1 = A_1H_2 = h$;

$A_1H_3 = h_2$. ~~$A_1H_1 = \sqrt{L^2 + h^2} = A_1H_2 = \sqrt{L^2 + h^2}$~~

~~$\sqrt{h^2 + L^2} = h = \sqrt{h^2 + L^2} \Rightarrow h = L = x$~~

~~Пусть $A_1H_3 = y$. Пусть $AB = AC = BC = a$~~

по теореме $\Rightarrow 1) = \sqrt{\frac{a+a-a}{2} \cdot \frac{a+a-a}{2} \cdot \frac{a+a-a}{2} \cdot \frac{a+a-a}{2}} = \frac{a^2}{4} \cdot \sqrt{3} \Rightarrow$

$\Rightarrow C_1 = \frac{2}{\sqrt{3}}$



На одной странице можно оформлять только одну задачу. Отметьте крестиком номер задачи, решение которой представлено на странице. Также укажите номер страницы и суммарное количество страниц в решении каждой задачи отдельно.

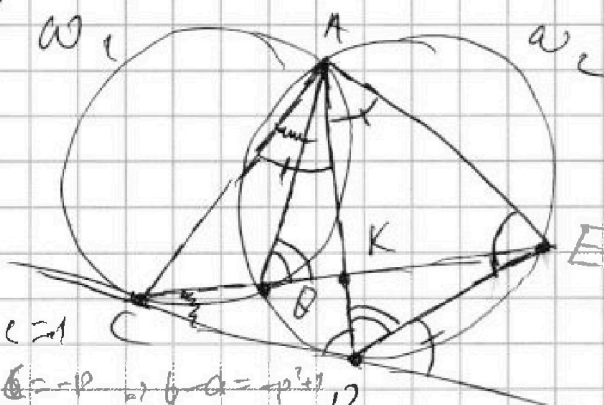
1 2 3 4 5 6 7

СТРАНИЦА
ИЗ

Если отмечено более одной задачи или не отмечено ни одной задачи, страница считается черновиком и не проверяется. Страницы по каждой из задач нумеруются отдельно. Порча QR-кода недопустима!

$$710 - 676 \Rightarrow 4$$

(14)



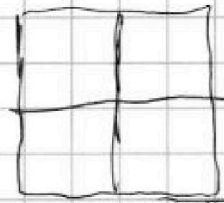
K - м. пересеч. CE и AD.

$$\frac{CK}{KE} = \frac{2}{5} \Rightarrow \frac{AC}{AE} = \frac{2}{5}$$

$$\frac{CD}{DE} = \frac{AC}{AO} = \frac{AD}{AE}$$


$$a - c = 1$$

$$b - a = p^2 - 1$$

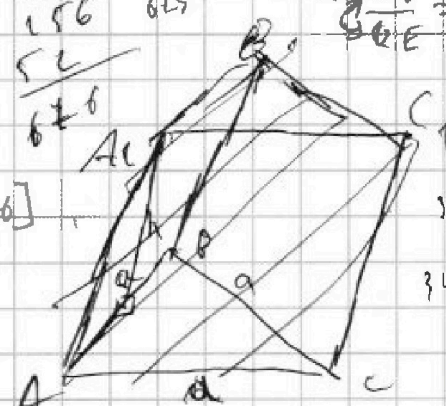


$$\frac{x}{y} = \frac{y}{5x} \Rightarrow$$

$$\Rightarrow y = x \cdot \sqrt{10} \Rightarrow$$

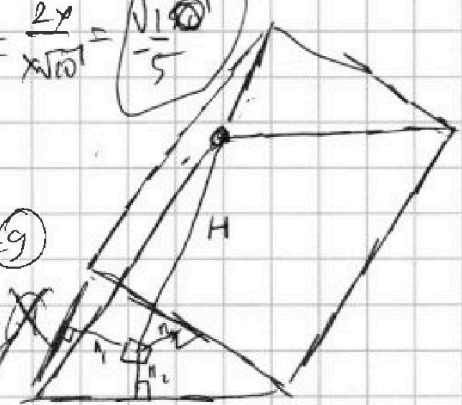


$$\frac{CD}{DE} = \frac{AC}{AO} = \frac{2x}{x\sqrt{10}} = \frac{\sqrt{10}}{5}$$



$$34 - 25 = 9$$

$$34 + 24 = 58$$



$$(a-c) \cdot (b-c) = p^2 \Rightarrow$$

$$\Rightarrow a-c = 1$$


$$b-c = p^2$$

$$S = \sqrt{\frac{3a}{2} \cdot \frac{a}{2} \cdot \frac{a}{2} \cdot \frac{a}{2}} = \frac{a^2 \sqrt{3}}{4} = 1 \Rightarrow$$

$$\Rightarrow a^2 = \frac{4}{\sqrt{3}} \Rightarrow a = \frac{2}{\sqrt{3}}$$

$$b - a = p^2 - 1$$

$$b - x = (p-1) \cdot (p+1)$$



- как-то угадаю либо 1 либо 3
суммированием.

26 24 25 22 20 18 17

p = 27

b - a = 3

~~a = 27~~

$$c^2 - (a+b) \cdot c + ab = p^2$$

$$c = \frac{a+b \pm \sqrt{(a+b)^2 - 4ab + 4p^2}}{2} = \frac{a+b \pm \sqrt{(a-b)^2 + 4p^2}}{2}$$

2 3 5 7 9 11 13 17 19 23

$$p = 2 \Rightarrow b - c = 4 \quad a - c = 1 \Rightarrow$$



На одной странице можно оформлять только одну задачу. Отметьте крестиком номер задачи, решение которой представлено на странице. Также укажите номер страницы и суммарное количество страниц в решении каждой задачи отдельно.

1 2 3 4 5 6 7

СТРАНИЦА
из

Если отмечено более одной задачи или не отмечено ни одной задачи, страница считается черновиком и не проверяется. Страницы по каждой из задач нумеруются отдельно. Порча QR-кода недопустима!

$$\begin{cases} b \cdot q^6 = \sqrt{(25x-9) \cdot (x-6)} \quad (1) \\ b \cdot q^8 = x+3 \quad (2) \\ b \cdot q^{14} = \sqrt{\frac{25x-9}{(x-6)^3}} \quad (3) \end{cases} \text{ ODP: } x \notin \left[\frac{9}{25}; 6\right]$$

$$(1) \cdot (2) = (3) \cdot b \Rightarrow \sqrt{x-6} \cdot (x+3) = \sqrt{\frac{1}{(x-6)^3}} \cdot b$$

$$\Rightarrow b = \sqrt{(x-6)^4 \cdot (x+3)} = (x-6)^2 \cdot \sqrt{x+3}$$

$$q = \sqrt[8]{\frac{x+3}{b}} = \sqrt[8]{\frac{1}{(x-6)^2}} = \sqrt[4]{\frac{1}{x-6}}$$

$$-7 \cdot 2^8 \cdot \frac{1}{2^6} = \sqrt{-259 \cdot (-16)}$$

$$x = -2$$

$$b = 2^6$$

$$q = \sqrt[8]{\frac{1}{2^6}}$$

$$b - a = 3 \quad \text{X}$$

$$b - a = 8$$

$$b - a = 24 \quad \text{X}$$

$$b - a = 48 \quad \text{X}$$

$$b - a = 120 \quad \text{X}$$

$$b - a = 168 \quad \text{X}$$

$$b - a = 288 \quad \text{X}$$

$$b - a = 528 \quad \text{X}$$

$$2^6 \cdot \sqrt[8]{\frac{1}{2^6}} = \sqrt{-59 \cdot (-8)} \in \frac{269}{2809}$$

$$2^5 \cdot \sqrt[8]{2^7} = 2 \sqrt{2^1 \cdot \sqrt{59}} < 2 \cdot \sqrt{2^1 \cdot 2^3} \\ 2 \cdot \sqrt{2^7} > \sqrt{2^7}$$

$$\begin{array}{r} \times 702 \\ \hline 2808 \end{array} + 1 = 2809 = 53^2$$



На одной странице можно оформлять только одну задачу. Отметьте крестиком номер задачи, решение которой представлено на странице. Также укажите номер страницы и суммарное количество страниц в решении каждой задачи отдельно.

1 2 3 4 5 6 7

СТРАНИЦА
__ ИЗ __

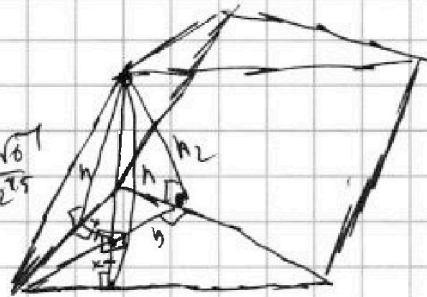
Если отмечено более одной задачи или не отмечено ни одной задачи, страница считается черновиком и не проверяется. Страницы по каждой из задач нумеруются отдельно. Порча QR-кода недопустима!

$$458 = 2 \cdot 279 = 2 \cdot 9 \cdot 31$$

$$x=0$$

$$q = \frac{1}{\sqrt{2}}$$

$$b = \frac{4\sqrt{6}}{4 \cdot 2^5} = \frac{\sqrt{6}}{2^5}$$



$$h = \sqrt{M^2 + x^2}$$

$$a \cdot h = 3$$

$$a \cdot h_2 = 2$$

$$h_2 = \sqrt{M^2 + x^2}$$

$$\begin{array}{r} \times 31 \\ 31 \\ \hline 93 \end{array}$$

$$\begin{array}{r} \times 31 \\ 93 \\ \hline 561 \\ \times 31 \\ \hline 901 \\ 2883 \\ \hline 24791 \end{array}$$

$$\begin{cases} a \cdot \sqrt{M^2 + x^2} = 3 \\ a \cdot \sqrt{M^2 + x^2} = 2 \\ \frac{1}{2} \cdot a \cdot (2x + y) = 1 \end{cases}$$

$$\begin{array}{r} \times 27 \\ 4 \\ \hline 108 \end{array}$$

$$\begin{array}{r} \times 18 \\ 25 \\ \hline 9 \cdot 50 = 450 \end{array}$$

$$7 \cdot 2 = 14$$

$$\begin{array}{r} \times 71 \\ 9 \\ \hline 639 \\ 358 \\ \hline 1101 \end{array}$$

$$\begin{array}{r} \times 71 \\ 31 \\ \hline 218 \\ 2201 \end{array}$$

$$\begin{cases} b \cdot q^6 = \sqrt{(25x-9) \cdot (x-6)} \\ b \cdot q^8 = x+3 \quad (2) \\ b \cdot q^{14} = \sqrt{\frac{25x-9}{(x-6)^5}} \quad (3) \end{cases}$$

$$OD3: x \notin \left[\frac{9}{25}; 6 \right]$$

$$ODP: x > 6$$

$$(3) : (2) : (1) : q^8 = \sqrt{\frac{1}{(x-6)^4}} \Rightarrow q = \sqrt[10]{\frac{1}{(x-6)^4}}$$

$$(1) \cdot (2) : (3) : (x+3) \cdot \sqrt{(25x-9) \cdot (x-6)} = b^2 \cdot q^{16} = b \cdot (b \cdot q^{14})$$

$$= \sqrt{\frac{25x-9}{(x-6)^3}} \cdot b \Rightarrow b = (x+3) \cdot \sqrt{(x-6)^4} = (x+3)(x-6)^2$$

$$ODP: x > -3$$



На одной странице можно оформлять только одну задачу. Отметьте крестиком номер задачи, решение которой представлено на странице. Также укажите номер страницы и суммарное количество страниц в решении каждой задачи отдельно.

1 2 3 4 5 6 7

СТРАНИЦА
ИЗ

Если отмечено более одной задачи или не отмечено ни одной задачи, страница считается черновиком и не проверяется. Страницы по каждой из задач нумеруются отдельно. Порча QR-кода недопустима!

$$\begin{array}{r} 18 \\ \times 18 \\ \hline 144 \\ 180 \\ \hline 324 \end{array}$$

$$\begin{array}{r} 324 \\ \wedge \\ 18 \end{array}$$

$$- 2 + 4 + 8 + 8$$