



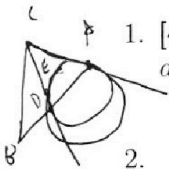
МОСКОВСКИЙ
ФИЗИКО-ТЕХНИЧЕСКИЙ
ИНСТИТУТ

ОЛИМПИАДА "ФИЗТЕХ"
ПО МАТЕМАТИКЕ

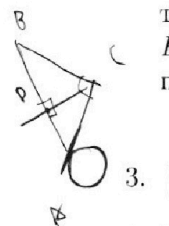
11 КЛАСС. Вариант 2



$\begin{cases} a+c=14 \\ a+b=7 \\ b+c=11 \end{cases} \Rightarrow \begin{cases} a=7 \\ b=0 \\ c=14 \end{cases}$
 $\begin{cases} a=7 \\ c=13 \\ a+b+c=24 \end{cases} \Rightarrow b=4$
 $\frac{AB}{BD} = \frac{13}{10}$
 $AB=13x, a=2$
 $BD=10x, 8D:10b=2 \Rightarrow c=20$



1. [4 балла] Натуральные числа a, b, c таковы, что ab делится на $2^7 3^{11} 5^{14}$, bc делится на $2^{13} 3^{15} 5^{18}$, ac делится на $2^{14} 3^{17} 5^{43}$. Найдите наименьшее возможное значение произведения abc .



2. [5 баллов] Дан прямоугольный треугольник ABC . Окружность, касающаяся прямой AC в точке A , пересекает высоту CD , проведённую к гипотенузе, в точке E , а катет BC — в точке F . Известно, что $AB \parallel EF$, $AB : BD = 1,3$. Найдите отношение площади треугольника ACD к площади треугольника CEF .

3. [4 балла] Решите уравнение $5 \arccos(\sin x) = \frac{3\pi}{2} + x$.

4. [5 баллов] Найдите все значения параметра a , для каждого из которых найдётся значение параметра b , при котором система уравнений

$$\begin{cases} x + 3ay - 7b = 0, \\ (x^2 + 14x + y^2 + 45)(x^2 + y^2 - 9) = 0 \end{cases}$$

имеет ровно 4 решения.

5. [5 баллов] Некоторые числа x и y удовлетворяют равенствам

$$\log_7^4(6x) - 2 \log_{6x} 7 = \log_{36x^2} 343 - 4, \quad \text{и} \quad \log_7^4 y + 6 \log_y 7 = \log_{y^2} (7^5) - 4.$$

Найдите все возможные значения произведения xy .

6. [5 баллов] На координатной плоскости дан параллелограмм с вершинами в точках $O(0;0)$, $P(-17;68)$, $Q(2;68)$ и $R(19;0)$. Найдите количество пар точек $A(x_1; y_1)$ и $B(x_2; y_2)$ с целыми координатами, лежащих в этом параллелограмме (возможно на границе) и таких, что $4x_2 - 4x_1 + y_2 - y_1 = 40$.

7. [6 баллов] Дана треугольная пирамида $SABC$, медианы AA_1, BB_1 и CC_1 треугольника ABC пересекаются в точке M . Сфера Ω касается ребра AS в точке L и касается плоскости основания пирамиды в точке K , лежащей на отрезке AM . Сфера Ω пересекает отрезок SM в точках P и Q . Известно, что $SP = MQ$, площадь треугольника ABC равна 60, $SA = BC = 10$.

а) Найдите произведение длин медиан AA_1, BB_1 и CC_1 .

б) Найдите двугранный угол при ребре BC пирамиды, если дополнительно известно, что Ω касается грани BCS в точке N , $SN = 3$, а радиус сферы Ω равен 4.

$14 \times 18 = 12 + 20 = 32$
 $c_1 = 11$
 $b_1 = 4$
 $a_1 = 7$
 $32 + 43 = 75$
 $26 + 17 = 30 + 6 + 7 = 43$
 $\frac{43}{2} = 21,5$
 $35 + 2,5$
 $37,5$
 $a=20, c=23$
 $b=0, a+c=43$

На одной странице можно оформлять только одну задачу.

Отметьте крестиком номер задачи,

решение которой представлено на странице:



1	2	3	4	5	6	7
<input checked="" type="checkbox"/>	<input type="checkbox"/>	<input type="checkbox"/>	<input type="checkbox"/>	<input type="checkbox"/>	<input type="checkbox"/>	<input type="checkbox"/>



Если отмечено более одной задачи или не отмечено ни одной задачи, страница считается черновиком и не проверяется. Порча QR-кода недопустима!

N1.

$$ab: 2^7 \cdot 3^{11} \cdot 5^{19}$$

$$bc: 2^{13} \cdot 3^{15} \cdot 5^{18}$$

$$ac: 2^{14} \cdot 3^{17} \cdot 5^{43}$$

$$abc_{\min} = ?$$

Р.ф. $ac: 2^{14}$, но ~~в~~ в abc имеет мин степеня 14, если учитывать, что все степени наименьшее возможные, т.е.

$$\begin{cases} a_2 + c_2 = 14 \\ a_2 + b_2 = 7 \\ b_2 + c_2 = 13 \end{cases}$$

где a_2, c_2, b_2 - макс степеня двойки входящая в число, или степеня какого-то числа больше, то и суммарная степеня $a_2 + c_2 + b_2$ - тоже

больше, т.е. если данная шестка имеет решение, то она - мин, тогда шестки все строчки:

$$2 \cdot a_2 + c_2 \cdot 2 + b_2 \cdot 2 = 34, \text{ т.е. } a_2 + c_2 + b_2 = 17, \text{ т.е. мин степеня}$$

2 это 2^{17} , аналогично для степеня тройки:

$$\begin{cases} a_3 + b_3 = 11 \\ b_3 + c_3 = 15 \\ a_3 + c_3 = 17 \end{cases}, \text{ т.е. } 2a_3 + 2b_3 + 2c_3 = 43, \text{ т.е. } a_3 + b_3 + c_3 = 21, 5,$$

т.к. a, b, c - натур. числа, то и степеня должны

быть целыми, т.е. 21, 5 - мин сумма степеней, но мин возможная в натуральных значениях 22, проверим, что она возможна:

т.е. должны выполняться неравенства $a_3 + b_3 \geq 11, b_3 + c_3 \geq 15, a_3 + c_3 \geq 17$, тогда $c_3 = 11, b_3 = 4, a_3 = 7$, тогда $a_3 + b_3 = 11, b_3 + c_3 = 15, a_3 + c_3 = 18 > 17$,

На одной странице можно оформлять **только одну** задачу.

Отметьте крестиком номер задачи,
решение которой представлено на странице:



1	2	3	4	5	6	7
<input checked="" type="checkbox"/>	<input type="checkbox"/>	<input type="checkbox"/>	<input type="checkbox"/>	<input type="checkbox"/>	<input type="checkbox"/>	<input type="checkbox"/>

МФТИ

Если отмечено более одной задачи или не отмечено ни одной задачи,
страница считается черновиком и не проверяется. Порча QR-кода недопустима!

$a_3 + c_3 + b_3 = 22$, т.е. мин степень тройки - 22; аналогично
для 5:

$$\begin{cases} a_5 + b_5 = 14 \\ b_5 + c_5 = 18 \\ a_5 + c_5 = 43 \end{cases}, \text{ тогда } a_5 + b_5 + c_5 \geq 43$$

тогда для натуральных чисел $a_5 + b_5 + c_5 = 38$, проверка

выполнение условий: ~~$a_5 + b_5 \geq 14$~~ т.к. $a_5 : 5^{43}$, тогда $abc : 4 \cdot 5^{43}$,
т.е. мин сумма 43, ~~$b_5 + c_5 \geq 18$~~ ~~$a_5 + c_5 \geq 43$~~ проверим выполнение
условий: ~~$a_5 + b_5 + c_5 = 43$~~

$$\begin{cases} a_5 + b_5 \geq 14 \\ b_5 + c_5 \geq 18 \\ a_5 + c_5 \geq 43 \\ a_5 + b_5 + c_5 = 43 \end{cases}, \text{ тогда } b_5 = 0, a_5 = 20, c_5 = 23,$$

неравенства выполняются,
т.е. 43 - мин степень 5, тогда:

Ответ: $abc_{\min} = 2^{17} \cdot 3^{22} \cdot 5^{43}$

На одной странице можно оформлять **только одну** задачу.

Отметьте крестиком номер задачи,
решение которой представлено на странице:



1 2 3 4 5 6 7

МФТИ

Если отмечено более одной задачи или не отмечено ни одной задачи,
страница считается черновиком и не проверяется. Порча QR-кода недопустима!

Когда $\angle CAF = 90^\circ - \alpha - \beta$, тогда $\triangle CAF \sim \triangle DAE$, тогда

из подобия: $\frac{CF}{AC} = \frac{ED}{AD}$, т.к. $\angle CEF = \angle CFE = \alpha$,

то пусть $CF = y$, тогда из подобия $\triangle ABC$:

$CE = y \cdot \frac{AC}{AB} = y \cdot \frac{\sqrt{39}}{13} = y \cdot \frac{\sqrt{3}}{13}$, тогда, т.к. $CD = \sqrt{30}x$, то

$ED = \sqrt{30}x - y \frac{\sqrt{3}}{13}$, тогда

$$\frac{y}{\sqrt{39}x} = \frac{\sqrt{30}x - \frac{\sqrt{3}}{13}y}{3x}$$

$$3y + \sqrt{\frac{39 \cdot 3}{13}} y = \sqrt{39} \cdot \sqrt{30} x$$

$$6y = 3\sqrt{130}x$$

$y = \frac{\sqrt{130}}{2}x$, т.к. отношение площадей подобных

треугольников пропорционально квадрату коэффициента подобия, то: ($\triangle ACD \sim \triangle CEF$ по углам)

$$\frac{S_{ACD}}{S_{CEF}} = \left(\frac{AB}{CF}\right)^2 = \frac{13x \cdot 13x}{\frac{130}{4}x^2} = \frac{13 \cdot 4}{10} = \frac{26}{5}$$

Ответ: $\frac{26}{5}$

На одной странице можно оформлять только одну задачу.

Отметьте крестиком номер задачи, решение которой представлено на странице:

- 1 2 3 4 5 6 7

МФТИ

Если отмечено более одной задачи или не отмечено ни одной задачи, страница считается черновиком и не проверяется. Порча QR-кода недопустима!



N2.

Дано:

- $\triangle ABC$ - крм
- $\angle C = 90^\circ$
- CD - высота
- (O, R) - в. о. кр
- $W \cap CD = E$
- $W \cap BC = F$
- $AB \parallel EF$
- $\frac{AB}{BD} = \frac{13}{10}$
- $S_{\triangle ACD} = 7$
- $S_{\triangle CEF}$

Пусть $BD = 10x$, тогда $AD = 3x$, тогда пусть $\angle COA = \alpha$, тогда $\angle CAB = 90^\circ - \alpha$, $\angle CDB = 90^\circ - \alpha$, $\angle ACD = \alpha$, тогда из подобия:

$$\frac{AD}{CD} = \frac{CD}{BD}, \text{ м.е.}$$

$$CD = \sqrt{3x \cdot 10x} = \sqrt{30}x,$$

тогда из $\triangle ADC$ по теореме Пифагора:

$$AC = \sqrt{30x^2 + 9x^2} = \sqrt{39}x$$

из $\triangle CDB$:

$$BC = \sqrt{100x^2 + 30x^2} = \sqrt{130}x,$$

м.к. A, E, F - принадлежат W , где - о. центра, но как радиусы:

$AO = OE = OF$, тогда из $\triangle OAE$ триг.

из $\triangle OAE$ (пусть $\angle CAE = \beta$): $\angle OAE = 90^\circ - \beta = \angle OEA$, м.к.

$\angle OAC = \angle BAC = 90^\circ - \alpha$, AC - кас. к W , тогда $AC \perp OA$, м.е.

$\angle OAB = 90^\circ - (90^\circ - \alpha) = \alpha$, тогда $\angle PAE = 90^\circ - \beta - \alpha$

тогда $\angle AED = \beta + \alpha$, $\angle AOE = 2\beta$, $\angle CEF = 180^\circ - \alpha - \beta$,

$\angle ACD = \alpha$, пусть $CD \cap AO = N$, м.к. $\angle OAC = 90^\circ$, то

$\angle ANC = 90^\circ - \alpha$, тогда $\angle OND = 90^\circ + \alpha$, тогда $\angle NEO =$

$= 90^\circ - 2\beta - \alpha$, тогда, м.к. $EF \parallel AB$, $AB \perp CD$, то $EF \perp CD$, м.е.

$\angle DEF = 90^\circ$, то $\angle OEF = 90^\circ - 2\beta - \alpha = \angle EFO$ (из $\triangle EFO$), тогда

$\angle EOF = 180^\circ - 4\beta - 2\alpha$, тогда из $AO \parallel CB$ (м.к. $OC \perp AC$, $OA \perp AC$),

то $\angle NOE = \angle OFB = 180^\circ - 4\beta - 2\alpha + 2\beta = 180^\circ - 2\beta - 2\alpha$, тогда $\angle AFE = \angle AFO =$

$= \frac{180^\circ - (180^\circ - 2\beta - 2\alpha)}{2} = \beta + \alpha$ (из $\triangle EFO$), тогда $\angle CFA = \angle B + \alpha - \beta = \beta$, тогда $\angle CFA = \beta + \alpha$

На одной странице можно оформлять только одну задачу.

Отметьте крестиком номер задачи,
решение которой представлено на странице:

1	2	3	4	5	6	7
<input type="checkbox"/>	<input type="checkbox"/>	<input checked="" type="checkbox"/>	<input type="checkbox"/>	<input type="checkbox"/>	<input type="checkbox"/>	<input type="checkbox"/>

МФТИ

Если отмечено более одной задачи или не отмечено ни одной задачи,
страница считается черновиком и не проверяется. Порча QR-кода недопустима!



№3.

$$\sin \arccos(\sin x) = \frac{3\sqrt{5}}{2} + x$$

$$\arccos(\cos(\sin x)) = \frac{3\sqrt{5}}{10} + \frac{x}{5}, \text{ пусть } x = k + 2\pi n, \text{ тогда, где } k \in [0; 2\pi), \text{ где } n \in \mathbb{Z}$$

$$\frac{\sqrt{5}}{2} - k = \frac{3\sqrt{5}}{10} + \frac{x}{5}$$

$$\frac{\sqrt{5}}{2} - k = \frac{3}{10}\sqrt{5} + \frac{k + 2\pi n}{5}$$

$$\frac{1}{5}\sqrt{5} = \frac{6}{5}k + \frac{2\pi n}{5}$$

$$\sqrt{5} = 6k + 2\pi n, \text{ м.к. } 6k + 2\pi n = \sqrt{5}, \text{ где } k \in [0; 2\pi)$$

$$k = \frac{\sqrt{5}}{6} + \frac{2\pi n}{3}, \text{ где } n \in \mathbb{Z}, \text{ м.к. } n=0, \text{ м.к.}$$

$$\frac{\sqrt{5}}{2} - \frac{\sqrt{5}}{6} = \frac{3}{10}\sqrt{5} + \frac{k + 2\pi n}{5} \Rightarrow \sqrt{5} = 6k$$

$$k = \frac{\sqrt{5}}{6}, x = k + 0, \text{ м.к.}$$

Ответ: $\frac{\sqrt{5}}{6}$

На одной странице можно оформлять только одну задачу.

Отметьте крестиком номер задачи,
решение которой представлено на странице:

1	2	3	4	5	6	7
<input type="checkbox"/>	<input type="checkbox"/>	<input type="checkbox"/>	<input type="checkbox"/>	<input checked="" type="checkbox"/>	<input type="checkbox"/>	<input type="checkbox"/>

МФТИ

Если отмечено более одной задачи или не отмечено ни одной задачи,
страница считается черновиком и не проверяется. Порча QR-кода недопустима!

№5.

$$\text{ОДЗ: } x > 0, y > 0, y \neq 1, x \neq \frac{1}{6}$$

$$\text{Пусть } \log_7 6x = a, \log_7 y = b, \text{ тогда:}$$

$$\begin{cases} a^4 - \frac{2}{a} = \frac{1,5}{a} - 4 \\ b^4 + \frac{6}{b} = \frac{2,5}{b} - 4 \end{cases} \quad \begin{cases} a^5 - 3,5 + 4a = 0 \\ b^5 + 3,5 + 4b = 0 \end{cases}$$

$$\begin{cases} a^5 + 4a - 3,5 = 0 \\ b^5 + 4b + 3,5 = 0 \end{cases}, \text{ т.е. если } a_1 - \text{решение I уравнения,} \\ \text{т.е. } a^5 + 4a = 3,5, \text{ то } (-a_1)^5 + 4 \cdot (-a_1) = -a_1^5 + 4 \cdot (-a_1) =$$

$$= -(a_1^5 + 4a_1) = -3,5, \text{ т.е. } -a_1 = b_1, \text{ где } b_1 - \text{решение II}$$

$$\text{уравнения, т.е. } a_1 + b_1 = 0, \text{ а т.к. } a + b = \log_7 6x + \log_7 y =$$

$$= \log_7 6xy = 0, \text{ т.е. } 6xy = 1, \text{ т.е. } xy = \frac{1}{6}, \text{ при } x = \frac{1}{6}, y = 1,$$

т.е. если x не подходит по ОДЗ, то и y тоже,

если $x < 0$ то и $y < 0$, т.е. ~~нет пары~~

т.к. $f(a) = a^5 + 4a - 3,5$ - возр. функция, $f(a) = 3,5 - 4a$ - убыв., а то

$$a^5 = 3,5 - 4a - \text{имеет одно решение}$$

т.к. $f(b) = b^5 + 4b + 3,5$ - возр. функция, $f(b) = -4b - 3,5$ - убыв., то

$$b^5 + 4b + 3,5 = -4b - 3,5 - \text{имеет одно решение, т.е.}$$

$$a, \text{ и } b, \text{ где } a + b = 0, \text{ т.е. } xy = \frac{1}{6} - \text{единствен}$$

ное значение произведения.


$$\text{Ответ: } \frac{1}{6}$$



На одной странице можно оформлять **только одну** задачу.
Отметьте крестиком номер задачи,
решение которой представлено на странице:

1	2	3	4	5	6	7
<input type="checkbox"/>	<input type="checkbox"/>	<input type="checkbox"/>	<input type="checkbox"/>	<input type="checkbox"/>	<input type="checkbox"/>	<input type="checkbox"/>

Если отмечено более одной задачи или не отмечено ни одной задачи,
страница считается черновиком и не проверяется. Порча QR-кода недопустима!



На одной странице можно оформлять **только одну** задачу.

Отметьте крестиком номер задачи, решение которой представлено на странице:

- 1 2 3 4 5 6 7

МФТИ

Если отмечено более одной задачи или не отмечено ни одной задачи, страница считается черновиком и не проверяется. Порча QR-кода недопустима!

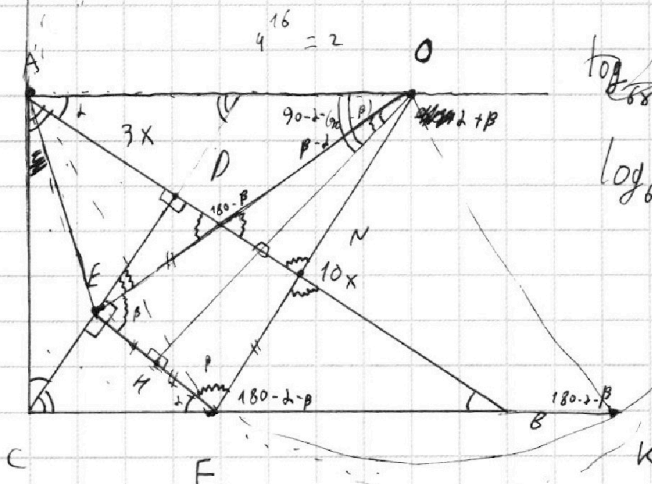


N2.

$$\log_a c = \frac{\log_b c}{\log_b a}$$

870
470

~~871~~ $8 \neq \frac{1}{6}$
~~471~~



$$\log_{6x} 49$$

$$\log_{6x} 7 = \frac{\log_7 7}{\log_7 6x} = \frac{1}{\log_7 6x}$$

$$\log_{6x} 6x = a$$

$$a = \log_{6x} 7$$

$$a^4 - 2a^2 = 1$$

$$49 \cdot 7 = 280 + 63 = 343$$

$$\frac{1}{a^4} - 2a = 1, 5a - 4$$

$$\frac{1}{a^4} + 4 = 3, 5a - 4$$

$$1 + 4a^4 = 3, 5a^5 - 4a^4$$

$$3, 5a^5 - 4a^4 = 0$$

$$3, 5a^5 - 4a^4 = 0$$

$$3, 5a^5 - 4a^4 = 0$$

$$3, 5a^5 - 4a^4 = 0$$

$$3, 5a^5 - 4a^4 = 0$$

$$3, 5a^5 - 4a^4 = 0$$

$$3, 5a^5 - 4a^4 = 0$$

$$3, 5a^5 - 4a^4 = 0$$

$$3, 5a^5 - 4a^4 = 0$$

$$3, 5a^5 - 4a^4 = 0$$

$$3, 5a^5 - 4a^4 = 0$$

$$3, 5a^5 - 4a^4 = 0$$

$$3, 5a^5 - 4a^4 = 0$$

$$3, 5a^5 - 4a^4 = 0$$

$$3, 5a^5 - 4a^4 = 0$$

$$3, 5a^5 - 4a^4 = 0$$

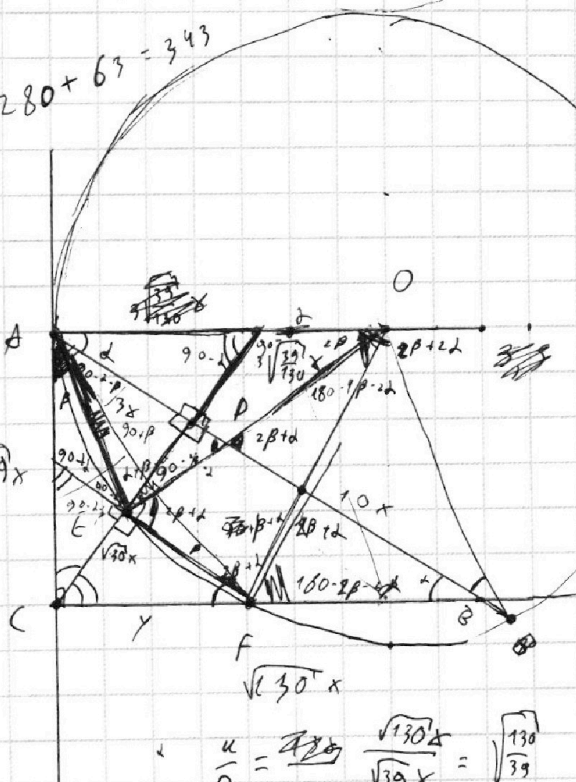
$$3, 5a^5 - 4a^4 = 0$$

$$3, 5a^5 - 4a^4 = 0$$

$$a = \log_{6x} 7$$

$$b = \log_7 7$$

$$\frac{1}{a} + \frac{1}{b} = \log_{6x} \sqrt{19} x$$



$$\sqrt{130} x$$

$$\frac{a}{0} = \frac{\sqrt{130} x}{\sqrt{130} x} = \sqrt{\frac{130}{39}}$$

$$\frac{0}{4} = \sqrt{\frac{39}{130}}$$

$$\frac{1}{b^4} + 6b = 2, 5b - 4$$

$$\frac{1}{b^4}$$

$$1 + 6b^4 + 4b^5 = 0$$

$$2p122 \begin{cases} 3, 5a^5 - 4a^4 - 1 = 0 \\ 3, 5b^4 + 4b^5 + 1 = 0 \end{cases}$$



На одной странице можно оформлять **только одну** задачу.

Отметьте крестиком номер задачи,
решение которой представлено на странице:

1	2	3	4	5	6	7
<input type="checkbox"/>	<input type="checkbox"/>	<input type="checkbox"/>	<input type="checkbox"/>	<input type="checkbox"/>	<input type="checkbox"/>	<input type="checkbox"/>



Если отмечено более одной задачи или не отмечено ни одной задачи,
страница считается черновиком и не проверяется. Порча QR-кода недопустима!

