



МОСКОВСКИЙ
ФИЗИКО-ТЕХНИЧЕСКИЙ
ИНСТИТУТ

ОЛИМПИАДА "ФИЗТЕХ"
ПО МАТЕМАТИКЕ

10 КЛАСС. Вариант 10



1. [4 балла] Натуральные числа a , b , c таковы, что ab делится на $2^{15}7^{11}$, bc делится на $2^{17}7^{18}$, ac делится на $2^{23}7^{39}$. Найдите наименьшее возможное значение произведения abc .
2. [4 балла] Известно, что дробь $\frac{a}{b}$ несократима ($a \in \mathbb{N}$, $b \in \mathbb{N}$). На доске записана дробь

$$\frac{a+b}{a^2-7ab+b^2}.$$

При каком наибольшем m могло оказаться, что числитель и знаменатель дроби можно сократить на m ?

3. [4 балла] Центр окружности ω лежит на окружности Ω , хорда AB окружности Ω касается ω в точке C так, что $AC : CB = 17 : 7$. Найдите длину AB , если известно, что радиусы ω и Ω равны 7 и 13 соответственно.
4. [5 баллов] Решите уравнение

$$\sqrt{3x^2 - 6x + 2} - \sqrt{3x^2 + 3x + 1} = 1 - 9x.$$

5. [5 баллов] На координатной плоскости дан параллелограмм с вершинами в точках $O(0;0)$, $P(-13;26)$, $Q(3;26)$ и $R(16;0)$. Найдите количество пар точек $A(x_1; y_1)$ и $B(x_2; y_2)$ с целыми координатами, лежащих в этом параллелограмме (возможно, на границе) и таких, что $2x_2 - 2x_1 + y_2 - y_1 = 14$.
6. [5 баллов] Найдите все значения параметра a , для каждого из которых найдётся значение параметра b , при котором система

$$\begin{cases} ax + y - 8b = 0, \\ (x^2 + y^2 - 1)(x^2 + (y - 12)^2 - 16) \leq 0 \end{cases}$$

имеет ровно 2 решения.

7. [6 баллов] Треугольник ABC вписан в окружность. Пусть M – середина той дуги AB описанной окружности, которая не содержит точку C ; N – середина той дуги AC описанной окружности, которая не содержит точку B . Найдите расстояние от вершины A до центра окружности, вписанной в треугольник ABC , если расстояния от точек M и N до сторон AB и AC соответственно равны 5 и 2,5.

На одной странице можно оформлять **только одну** задачу.

Отметьте крестиком номер задачи,
решение которой представлено на странице:



1	2	3	4	5	6	7
<input checked="" type="checkbox"/>	<input type="checkbox"/>	<input type="checkbox"/>	<input type="checkbox"/>	<input type="checkbox"/>	<input type="checkbox"/>	<input type="checkbox"/>

МФТИ

Если отмечено более одной задачи или не отмечено ни одной задачи,
страница считается черновиком и не проверяется. Порча QR-кода недопустима!

$$\textcircled{1} \begin{cases} a \cdot b = 2^{15} \cdot 4^{11} \cdot k_1 \\ b \cdot c = 2^{17} \cdot 4^{18} \cdot k_2 \\ a \cdot c = 2^{25} \cdot 4^{39} \cdot k_3 \end{cases} \Rightarrow a^2 \cdot b^2 \cdot c^2 = 2^{55} \cdot 4^{68} \cdot k_1 \cdot k_2 \cdot k_3; \quad a \cdot b \cdot c_{\min} = ?$$

т.к. $a \in \mathbb{N}, b \in \mathbb{N}, c \in \mathbb{N} \Rightarrow k_1, k_2, k_3 \in \mathbb{N}$ и $a \cdot b \cdot c > 0 \Rightarrow$
и $a \cdot b \cdot c \in \mathbb{N}$

$\Rightarrow a \cdot b \cdot c = \sqrt{2} \cdot 2^{27} \cdot 4^{34} \sqrt{k_1 \cdot k_2 \cdot k_3}$ но $a \cdot b \cdot c \in \mathbb{N}$ тогда наименьшее

натуральное значение будет достигаться при $\sqrt{k_1 \cdot k_2 \cdot k_3} = \sqrt{2}$ (например

$k_1=2, k_2=1, k_3=1 \in \mathbb{N}$) и будет равно $2^{28} \cdot 4^{34}$ Ответ: $2^{28} \cdot 4^{34}$

На одной странице можно оформлять **только одну** задачу.

Отметьте крестиком номер задачи,
решение которой представлено на странице:

1 2 3 4 5 6 7

МФТИ

Если отмечено более одной задачи или не отмечено ни одной задачи,
страница считается черновиком и не проверяется. Порча QR-кода недопустима!

2) $\max m$?

$$\begin{cases} a+b \equiv 0 \pmod{m} \\ a^2 - 9ab + b^2 \equiv 0 \pmod{m} \end{cases}$$

$$a^2 - 9ab + b^2 \equiv 0 \pmod{m}$$

$$(a+b)^2 - 9ab \equiv 0 \pmod{m}$$

$$\text{но } a+b \equiv 0 \pmod{m} \Rightarrow -9ab \equiv 0 \pmod{m} \Rightarrow$$

$$\Rightarrow -9ab : m; \quad 9ab : m; \quad \Rightarrow \begin{cases} 9ab \equiv 0 \pmod{m} \\ a+b \equiv 0 \pmod{m} \end{cases}$$

$$a+b = km; \quad b = km - a; \quad 9a(km - a) = k_1 m; \quad 9akm - 9a^2 = k_1 m;$$

$$9a^2 - 9akm + k_1 m = 0; \quad D = 81k^2 m^2 - 4 \cdot 9 \cdot k_1 m =$$

$$= 9m(9k^2 m - 4k_1); \quad a = \frac{+9km \pm \sqrt{9m(9k^2 m - 4k_1)}}{18} = \frac{3km \pm \sqrt{m(9k^2 m - 4k_1)}}{6}$$

$$a, b \in \mathbb{N}; \quad k, k_1 \in \mathbb{N} \text{ так как } a \text{ — натуральное то } \frac{3km \pm \sqrt{m(9k^2 m - 4k_1)}}{6}$$

тоже натуральное. так как делитель делит числитель, то

наиболее выгодный вариант достигается при $k=1$ и $k_1=1$

(изначально $a+b=km$ и $a \cdot b = k_1 m$, очевидно, что при фиксированных

$$a \text{ и } b, m \text{ — наибольшее при } k_1=1 \text{ и } k=1) \Rightarrow Q = \frac{3m \pm \sqrt{m(9m-4)}}{6};$$

На одной странице можно оформлять только одну задачу.

Отметьте крестиком номер задачи,

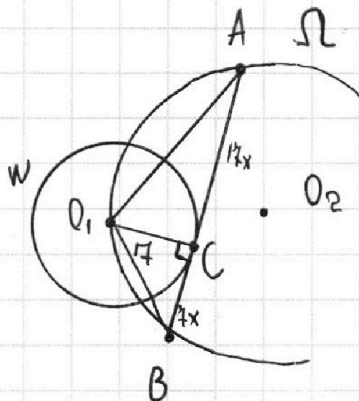
решение которой представлено на странице:

1 2 3 4 5 6 7



Если отмечено более одной задачи или не отмечено ни одной задачи, страница считается черновиком и не проверяется. Порча QR-кода недопустима!

3



1) По т. Пифагора в ΔO_1CA :

$$O_1A = \sqrt{289x^2 + 49}$$

2) По т. Пифагора в ΔO_1BC :

$$O_1B = \sqrt{49x^2 + 49} = 7\sqrt{x^2 + 1}$$

3) По т. косинусов ΔO_1BA : ~~$49x^2 + 49 = 289$~~ $O_1A^2 = O_1B^2 + AB^2 - 2O_1B \cdot AB \cdot \cos B$;

$$289x^2 + 49 = 49x^2 + 49 + 576x^2 - 2 \cdot 7\sqrt{x^2 + 1} \cdot 24x \cdot \cos B;$$

$$336x^2 = 2 \cdot 7 \cdot 24 \sqrt{x^2 + 1} \cos B; \cos B = \frac{x^2}{\sqrt{x^2 + 1}};$$

4) По осн. триг. $\cos B$: $\sin B = \sqrt{1 - \frac{x^4}{x^2 + 1}} = \sqrt{\frac{x^2 + 1 - x^4}{x^2 + 1}}$;

5) ΔO_1AB - вписан в окр. $\Omega \Rightarrow$ радиус его описанной окружности $R = 3$

6) По т. синусов ΔO_1AB : $\frac{\sqrt{289x^2 + 49}}{\sqrt{\frac{x^2 + 1 - x^4}{x^2 + 1}}} = 26; \frac{(289x^2 + 49)(x^2 + 1)}{x^2 + 1 - x^4} = 26^2;$

$$\underline{289x^4 + 289x^2 + 49x^2 + 49} = \underline{-26x^4 + 26x^2 + 26^2}; \quad 315x^4 + 312x^2 + 23 = 0;$$

$$\cancel{(3 \cdot 5 \cdot 3 \cdot 7)x^4 + (3 \cdot 2 \cdot 2 \cdot 2 \cdot 13)x^2 + 23} = 0; \quad 1 \leftarrow x^2, \quad (3 \cdot 5 \cdot 3 \cdot 7)t^2 + (3 \cdot 2^3 \cdot 13)t + 23 = 0$$

$$965x^4 - 338x^2 - 627 = 0; \quad (x-1)(965x^3 + 965x^2 + 627x + 627) = 0$$

$$(x-1)(x+1)(965x^2 + 627) = 0 \Rightarrow x = \pm 1 \Rightarrow x = 1; \Rightarrow AB = 24;$$

не имеет корней $D < 0$;

Ответ: 24;

На одной странице можно оформлять только одну задачу.

Отметьте крестиком номер задачи,
решение которой представлено на странице:

1	2	3	4	5	6	7
<input type="checkbox"/>	<input type="checkbox"/>	<input type="checkbox"/>	<input checked="" type="checkbox"/>	<input type="checkbox"/>	<input type="checkbox"/>	<input type="checkbox"/>

МФТИ

Если отмечено более одной задачи или не отмечено ни одной задачи,
страница считается черновиком и не проверяется. Порча QR-кода недопустима!

$$④ \sqrt{3x^2-6x+2} - \sqrt{3x^2+3x+1} = 1-9x;$$

$$3x^2-6x+2 - 3x^2-3x-1 = 1-9x; \Rightarrow a = \sqrt{3x^2-6x+2}, b = \sqrt{3x^2+3x+1};$$

$$a-b = a^2-b^2; (a-b) = (a-b)(a+b);$$

$$\begin{cases} a=b \textcircled{1} \\ a+b=1 \textcircled{2} \end{cases}$$

$$\textcircled{1} \sqrt{3x^2-6x+2} = \sqrt{3x^2+3x+1}; \uparrow^2 \text{ Проверка: } \sqrt{\frac{1}{24} - \frac{2}{3} + 2} - \sqrt{\frac{1}{24} + \frac{1}{3} + 1} = 0;$$

$$3x^2-6x+2 = 3x^2+3x+1;$$

$$9x = 1; x = \frac{1}{9}$$

$$\sqrt{\frac{1}{24} + \frac{4}{3}} = \sqrt{\frac{1}{24} + \frac{4}{3}} \text{ - истина}$$

$$\textcircled{2} \sqrt{3x^2-6x+2} + \sqrt{3x^2+3x+1} = 1 \uparrow^2$$

$$3x^2-6x+2 + 3x^2+3x+1 + 2\sqrt{(3x^2-6x+2)(3x^2+3x+1)} = 1;$$

$$-6x^2+3x-2 = 2\sqrt{(3x^2-6x+2)(3x^2+3x+1)} \uparrow^2$$

$$(6x^2-3x+2)^2 = 4(3x^2-6x+2)(3x^2+3x+1) \text{ и } -6x^2+3x-2 \geq 0$$

~~$$36x^4 + 9x^2 + 4 - 2 \cdot 6x^2 \cdot 3x - 2 \cdot 3x^2 \cdot 2 + 6x^2 \cdot 2 \cdot 2 = 36x^4 + 36x^3 + 12x^2 - 42x^3 - 42x^2 - 24x^2 + 24x^2 + 24x + 24 \cdot 8$$~~

~~$$9x^2 + 4 - 12x = 12x^2 - 42x^3 - 42x^2 + 8$$~~

~~$$42x^3 + 69x^2 - 12x - 4 = 0$$~~

$$-6x^2+3x-2: D=9-4 \cdot 2 \cdot 6=9-48=-\dots; \text{ корни虚数 } \Rightarrow$$

$\Rightarrow -6x^2+3x-2 < 0$ всегда \Rightarrow этот случай не даст решений.

Ответ: $\frac{1}{9}$;

На одной странице можно оформлять только одну задачу.

Отметьте крестиком номер задачи, решение которой представлено на странице:

1 2 3 4 5 6 7

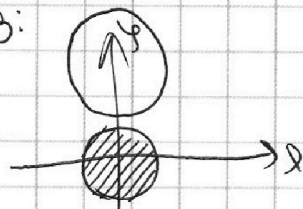
МФТИ

Если отмечено более одной задачи или не отмечено ни одной задачи, страница считается черновиком и не проверяется. Порча QR-кода недопустима!

$$\textcircled{6} \begin{cases} ax+y-8b=0 \\ (x^2+y^2-1)(x^2+(y-12)^2-16) \leq 0 \end{cases}$$

I) или $\begin{cases} x^2+y^2 \leq 1 & \text{- окружность с ц. } (0;0), R=1 \\ x^2+(y-12)^2 \geq 16 & \text{- окружность с ц. } (0;12), R=4 \\ ax+y-8b=0 & \text{- прямая} \end{cases}$

Эскиз:



$\begin{cases} x^2+y^2 \leq 1 \\ ax+y-8b=0 \end{cases}$ либо 0 реш, либо бесконечность реш, либо 1 реш.

$0 = ax+y-8b - \text{кас. к } x^2+y^2=1;$

$\hookrightarrow ax+y-8b=0$ - касательная к двум окружностям.

$\hookrightarrow y = -ax+8b; -ax+8b = \sqrt{x^2+y^2} - ax+8b = \sqrt{1-x^2}$

1) $64b^2 + a^2x^2 - 2ax \cdot 8b = 1 - x^2;$

$(a^2+1)x^2 + 64b^2 - 16abx - 1 = 0;$

$D = 256a^2b^2 - 4(64b^2-1)(a^2+1);$

1 реш $\Rightarrow D=0;$

$256a^2b^2 = 256a^2b^2 + 256b^2 - a^2 - 1$

$256b^2 = a^2 + 1$ *

II) или Аналитическ:

$\begin{cases} x^2+(y-12)^2 \geq 16 \\ ax+y-8b=0 \end{cases}$

$ax+y-8b=0$

$ax+y-8b=0$ - кас. к $x^2+(y-12)^2=16;$

2) $-ax+8b = \sqrt{16-x^2} + 12;$

$64b^2 + a^2x^2 - 2ax \cdot 8b = (-ax+8b-12) = \sqrt{16-x^2}; a^2x^2 + 64b^2 + 144 -$

$-2ax \cdot 8b - 2 \cdot 12 \cdot 8b + 2ax \cdot 12 = 16 - x^2; a^2x^2 + 64b^2 + 144 - 16abx - 192b + 24ax$

$= 16 - x^2; D=0; *$

На одной странице можно оформлять только одну задачу.

Отметьте крестиком номер задачи,
решение которой представлено на странице:

1 2 3 4 5 6 7



Если отмечено более одной задачи или не отмечено ни одной задачи,
страница считается черновиком и не проверяется. Порча QR-кода недопустима!



$$a+b=km; a^2+b^2+2ab=k^2m^2; a^2+b^2=k^2m^2-2ab;$$

$$a^2-2ab+b^2=k^2m^2 \quad k^2m^2-2ab-2ab=k^2m^2;$$

$$(a+b)^2-4ab=k^2m^2 \quad k^2m^2-4ab=k^2m^2;$$

$$(km)^2-4ab=k^2m^2; \quad km^2-km-4ab=0;$$

$$D = k_1^2 + 4 \cdot 4ab \cdot k = 3$$

$$m = \frac{k_1 \pm \sqrt{k_1^2 + 36abk}}{2k}$$

$$m = \frac{k_1 + \sqrt{k_1^2 + 36k_2}}{2k_3}$$

$$\left(\frac{k_1 + \sqrt{k_1^2 + 36k_2}}{2k_3} \right) \cdot k_3 = k_1 + \sqrt{k_1^2 + 36k_2}$$

$$(mk_3 - k_1)^2 = k_1^2 + 36k_2$$

$$\left(\frac{a}{b}\right)^2 - 4\left(\frac{a}{b}\right) + 1$$

$$a^2 - 4a + 1 = \frac{a^2 - 4ab + b^2}{b^2}$$

$$m = \text{gcd}(a+b, a^2 - 4ab + b^2)$$

$$\text{gcd} \left(\frac{a+b}{m} \right)$$

$$x^2 + (y-12)^2 - 16 \geq 0$$

$$\begin{array}{r} 12 \\ 16 \\ \hline 12 \\ 192 \end{array}$$

На одной странице можно оформлять **только одну** задачу.

Отметьте крестиком номер задачи, решение которой представлено на странице:

- 1 2 3 4 5 6 7



Если отмечено более одной задачи или не отмечено ни одной задачи, страница считается черновиком и не проверяется. Порча QR-кода недопустима!



Problem 1: $(3m)^2 - 4 = x^2$
 $4m^2 - 4 = x^2$
 $(x^2 + y^2 - 1) / (x^2 + y^2 - 2 \cdot 12 \cdot y + 144 - 16) \leq 0$

Problem 2: $(x+y)^2 = 2xy - 1$
 $9m^2 - 4m = p$
 $x^2 + y^2 - 24y + 128 \leq 0$
 $x^2 + y^2 \leq 24y - 128$

Problem 3: $x^2 + y^2 \leq 1$
 $x^2 + y^2 - 24y + 128 \leq 0$
 $x^2 + y^2 \leq 24y - 128$

Problem 4: $9a^2 - 4ab = m$
 $a + b = m$
 $9ab = a + b$
 $a^2 + b^2 = m^2 - 2ab = m^2 - 2(a+b) = m^2 - 2m$
 $x^2 + (8b - ax)^2 = 8b - ax + 12$
 $x^2 + (8b - ax - 12)^2 - 16$
 $x^2 + (8b - ax - 16) / (8b - ax - 8)$
 $-42 + 69 + 12 - 4$

Problem 5: $12(912 - y) - 144 \cdot 2^2 + 69 \cdot 2^2$
 $-36 \cdot (\frac{1}{2})^2 + 69 \cdot (\frac{1}{2})^2 + 6 - 4$
 $18 \cdot (\frac{1}{4})^2 + 69 \cdot (\frac{1}{4})^2 - 12 \cdot \frac{1}{4} + 2 = 0$
 $9 - 4(-2) \cdot (-6) = \dots$

Problem 6: $9ab = m$
 $a + b = m$
 $8, 16, 24, 32, 40, 48$
 $12 + 12 + 2$
 $a^2 + 18 + 2$
 $48 + 24 + 2 = 74$

Problem 7: $3, 8, 15, 24, 35$
 $5, 12, 21, 38$
 $1, 4, 9, 16, 25, 36, 49$

Diagrams: A circle with center O and points A, B, C, D, E, F, G, H, I, J, K, L, M, N, P, Q, R, S, T, U, V, W, X, Y, Z. A shaded region is shown inside the circle. A coordinate system is drawn with the origin at the center of the circle.

На одной странице можно оформлять **только одну** задачу.

Отметьте крестиком номер задачи,
решение которой представлено на странице:

1 2 3 4 5 6 7

 МФТИ

Если отмечено более одной задачи или не отмечено ни одной задачи,
страница считается черновиком и не проверяется. Порча QR-кода недопустима!

①
$$\begin{cases} a \cdot b = 2^{15} \cdot 4^{11} \cdot K_1 \\ b \cdot c = 2^{14} \cdot 4^{18} \cdot K_2 \\ a \cdot c = 2^{23} \cdot 4^{39} \cdot K_3 \end{cases} \quad \begin{cases} a \cdot b = 2^{15} \cdot 4^{11} \cdot K_1 \\ \frac{a}{b} = 2^6 \cdot 2^{21} \cdot \frac{K_3}{K_2} \\ a \cdot c = 2^{23} \cdot 4^{39} \cdot K_3 \end{cases} \quad \begin{cases} a^2 = 2^{21} \cdot 4^{32} \cdot \frac{K_1 K_3}{K_2} \\ \dots \end{cases}$$

$$\begin{cases} a = 2^{10} \cdot 4^{16} \cdot \sqrt{2} \cdot \frac{K_1 \cdot K_3}{K_2} \\ b = \frac{2^{15} \cdot 4^{11} \cdot K_1 \cdot K_2}{2^{10} \cdot 4^{16} \cdot \sqrt{2} \cdot K_3 \cdot K_1} \\ c = \frac{2^{23} \cdot 4^{39} \cdot K_3 \cdot K_2}{2^{10} \cdot 4^{16} \cdot \sqrt{2} \cdot K_1 \cdot K_3} \end{cases} \quad \begin{cases} a = 2^{10} \cdot 4^{16} \cdot \sqrt{2} \cdot \frac{K_1 \cdot K_3}{K_2} \\ b = \frac{2^5}{4^5} \end{cases}$$




На одной странице можно оформлять **только одну** задачу.

Отметьте крестиком номер задачи,
решение которой представлено на странице:

1	2	3	4	5	6	7
<input type="checkbox"/>	<input type="checkbox"/>	<input type="checkbox"/>	<input type="checkbox"/>	<input type="checkbox"/>	<input type="checkbox"/>	<input type="checkbox"/>

 **МФТИ**

Если отмечено более одной задачи или не отмечено ни одной задачи,
страница считается черновиком и не проверяется. Порча QR-кода недопустима!



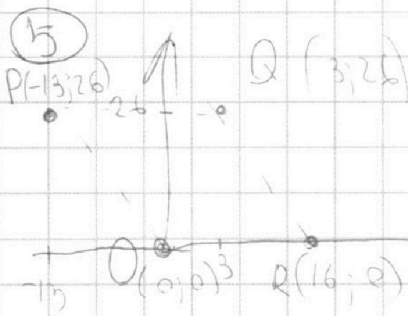
На одной странице можно оформлять **только одну** задачу.

Отметьте крестиком номер задачи,
решение которой представлено на странице:

1 2 3 4 5 6 7

МФТИ

Если отмечено более одной задачи или не отмечено ни одной задачи,
страница считается черновиком и не проверяется. Порча QR-кода недопустима!



$$2x_2 - 2x_1 + y_2 - y_1 = 14$$

$$\frac{26}{58} \\ \frac{84}{84}$$

$$2\Delta x + \Delta y = 14$$

$$\Delta y = 14 - 58 = \Delta y \leq 26$$

$$14 - \Delta y \leq 58; \Delta x \leq 29$$

$$\Delta y \leq \Delta y \geq -44; 2\Delta x \leq 58$$

$$-\Delta y \leq 44; 2\Delta x + \Delta y \leq 84$$

$$14 - 2\Delta x \leq 26;$$

$$4 - \Delta x \leq 13; \Delta x \geq -6; x_2 - x_1 \geq -6;$$

$$x_1 - x_2 \leq 6; 2(x_1 - x_2) \leq 12; x_1 - x_2 \leq 6;$$

$$14 - y_1 - y_2 \leq 12; y_1 - y_2 \leq -2; y_2 - y_1 \geq 2;$$

$$-26 \leq 14 - 2(x_2 - x_1) \leq 26$$

$$-20 \leq x_1 - x_2 \leq 20$$

$$-40 \leq -2(x_2 - x_1) \leq 12$$

$$-26 \leq y_1 - y_2 \leq 26$$

$$-40 \leq 2(x_1 - x_2) \leq 12$$

$$\boxed{-20 \leq x_1 - x_2 \leq 6} \quad -20 \leq \frac{(y_2 - y_1 - 14)}{2} \leq 6; \quad -40 \leq y_2 - y_1 - 14 \leq 12;$$

$$\begin{cases} \Delta y \leq 26 \\ \Delta x \leq 29 \\ 2\Delta x + \Delta y = 14 \end{cases} \quad \begin{cases} 26 \leq 14 - 2\Delta x \leq 26 \\ -20 \leq -\Delta x \leq 6 \\ -29 \leq \Delta x \leq 29 \end{cases} \quad \begin{cases} 6 \leq \Delta x \leq 20 \\ -26 \leq \Delta y \leq 26 \\ -29 \leq \Delta x \leq 29 \end{cases}$$

$$\begin{cases} -26 \leq \Delta y \leq 26 \\ 6 \leq \Delta x \leq 20 \\ 2\Delta x + \Delta y = 14 \end{cases} \quad \Delta x = \frac{14 - \Delta y}{2} \Rightarrow 6 \leq \frac{14 - \Delta y}{2} \leq 20; \quad 12 \leq 14 - \Delta y \leq 40; \quad -26 \leq \Delta y \leq 26$$

$$-26 \leq 14 - 2\Delta x \leq 2; \quad -40 \leq -2\Delta x \leq -12; \quad 12 \leq 2\Delta x \leq 40; \quad 6 \leq \Delta x \leq 20;$$

$$\begin{cases} 6 \leq \Delta x \leq 20 \\ -2 \leq \Delta y \leq 26 \\ 2\Delta x + \Delta y = 14 \end{cases}$$

На одной странице можно оформлять только одну задачу.

Отметьте крестиком номер задачи, решение которой представлено на странице:

1 2 3 4 5 6 7



Если отмечено более одной задачи или не отмечено ни одной задачи, страница считается черновиком и не проверяется. Порча QR-кода недопустима!



① $a \cdot b = 2^{15} \cdot 4^{11} \cdot K_1$ $a \cdot b = 2^{25} \cdot 4^{11} \cdot K_1$ $a \cdot b = 2^{15} \cdot 4^{11} \cdot K$
 $b \cdot c = 2^{17} \cdot 4^{18} \cdot K_2$ $\frac{b}{a} = \frac{1}{2^{26} \cdot 4^{21}} \cdot K_4$ $\frac{a}{b} = 2^6 \cdot 4^{21} \cdot K_5$ ①
 $a \cdot c = 2^{23} \cdot 4^{39} \cdot K_3$
 $a^2 = 2^{21} \cdot 4^{39} \cdot K_6$ $a = 4^6 \cdot 2^{10} \sqrt{2} \cdot K_5$

15
 14
 23
 40

$$\begin{array}{r} 168/8 \\ 16 \overline{) 121} \\ \underline{01} \end{array}$$

④ $D_1 = 36 - 4 \cdot 3 \cdot 2 = 12$ $1 - 9x$
 $D_2 =$
 $\sqrt{a} - \sqrt{b} = 1 - 9x$ $3x^2 - 6x + 2 - 3x^2 - 3x - 1 =$
 $a^2 - b^2 = 1 - 9x$ $= -9x + 1 = 1 - 9x$
 $a^2 - b^2 = a - b; (a-b)(a+b) = (a-b)$

$$240 - 516 = -336$$

$$336 = 168$$

$$\begin{array}{r} 168 \\ 168 \\ \hline 336 \end{array}$$

$\sqrt{a} - \sqrt{b} = a - b$ $\begin{cases} a=b \\ a+b=1 \end{cases}$ $\begin{array}{r} 105/15 \\ 121 \end{array}$ $\begin{array}{r} 14 \\ 24 \\ 56 \\ 28 \\ \hline 336 \end{array}$ $\begin{array}{r} 289 \\ 26 \\ \hline 315 \end{array}$

② m -max? $\gcd(a, b) = 1; \gcd(a+b, a^2 - 4ab + b^2) = m$
 $b^2(a+b) = 0 \pmod{m}$
 $(a^2 - 4ab + b^2) = 0 \pmod{m}$
 $(a-b)^2(a+b) - 4ab = m$
 $\left(\frac{a}{b}\right)^2 - 4\left(\frac{a}{b}\right) + 1 = 0 \pmod{m}$
 $\frac{a}{b} =$

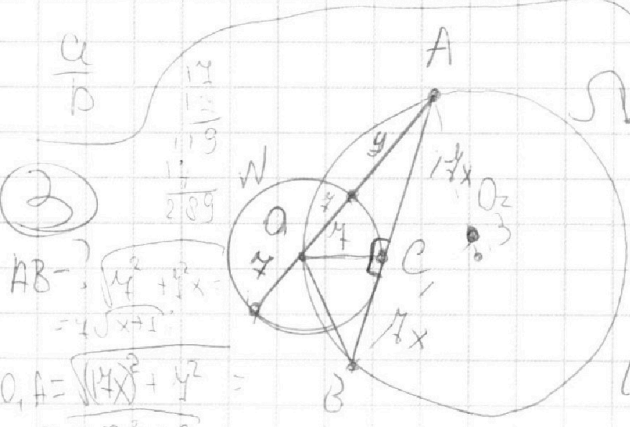
$-9ab; m$
 $\frac{m_{\max} = 9ab}{9ab; m}$
 $-\frac{9a}{b}; \frac{m}{b^2}$

$$\begin{array}{r} 289 \\ 26 \\ \hline 315 \end{array}$$

$$\begin{array}{r} 49 \\ 26 \\ \hline 23 \end{array}$$

$$\begin{array}{r} 24 \\ 24 \\ 96 \\ 48 \\ \hline 546 \end{array}$$

$$\begin{array}{r} 289 \\ 23 \\ \hline 312 \end{array}$$



$(14x)^2 = y \cdot (y+14)$
 $(4x)^2 = (y+4)^2 - 49$
 $(y+4)^2 - 49 = y^2 + 14y$

$0, A = \sqrt{(14x)^2 + 4^2} = \sqrt{196x^2 + 16}$

На одной странице можно оформлять **только одну** задачу.

Отметьте крестиком номер задачи,
решение которой представлено на странице:

1 2 3 4 5 6 7

МФТИ

Если отмечено более одной задачи или не отмечено ни одной задачи,
страница считается черновиком и не проверяется. Порча QR-кода недопустима!



~~6~~ ~~5~~

$$\textcircled{6} \begin{cases} ax+y-8b=0 \\ (x^2+y^2-1)(x^2+(y-12)^2-16) \leq 0; \end{cases}$$

$$\text{I cu)} \begin{cases} (x-0)^2+(y-12)^2 \leq 16 \quad (1) \text{ экив;} \\ x^2+y^2 \leq 1 \quad (2) \\ ax+y-8b=0 \end{cases}$$

(1) и (2) - не пересекаются \Rightarrow

\Rightarrow нет решений

$$\text{II cu)} \begin{cases} (x-0)^2+(y-12)^2 \geq 16 \\ x^2+y^2 \geq 1 \\ ax+y-8b=0 \end{cases}$$

$y=8b-ax$; $y=-ax+8b$; -наклои.
прямая

