

МОСКОВСКИЙ ФИЗИКО-ТЕХНИЧЕСКИЙ ИНСТИТУТ
ОЛИМПИАДА "ФИЗТЕХ" ПО МАТЕМАТИКЕ

11 класс

ВАРИАНТ 4

ШИФР _____

Заполняется ответственным секретарём

1. [3 балла] Углы α и β удовлетворяют равенствам

$$\sin(2\alpha + 2\beta) = -\frac{1}{\sqrt{17}}; \quad \sin(2\alpha + 4\beta) + \sin 2\alpha = -\frac{2}{17}.$$

Найдите все возможные значения $\operatorname{tg} \alpha$, если известно, что он определён и что этих значений не меньше трёх.

2. [4 балла] Решите систему уравнений

$$\begin{cases} y - 6x = \sqrt{xy - 6x - y + 6}, \\ 9x^2 + y^2 - 18x - 12y = 45. \end{cases}$$

3. [5 баллов] Решите неравенство

$$|x^2 - 26x|^{\log_5 12} + 26x \geq x^2 + 13^{\log_5(26x - x^2)}.$$

4. [5 баллов] Окружности Ω и ω касаются в точке A внутренним образом. Отрезок AB – диаметр большей окружности Ω , а хорда BC окружности Ω касается ω в точке D . Луч AD повторно пересекает Ω в точке E . Прямая, проходящая через точку E перпендикулярно BC , повторно пересекает Ω в точке F . Найдите радиусы окружностей, угол AFE и площадь треугольника AEF , если известно, что $CD = 12$, $BD = 13$.

5. [5 баллов] Функция f определена на множестве положительных рациональных чисел. Известно, что для любых чисел a и b из этого множества выполнено равенство $f(ab) = f(a) + f(b)$, и при этом $f(p) = [p/4]$ для любого простого числа p ($[x]$ обозначает наибольшее целое число, не превосходящее x). Найдите количество пар натуральных чисел $(x; y)$ таких, что $4 \leq x \leq 28$, $4 \leq y \leq 28$ и $f(x/y) < 0$.

6. [5 баллов] Найдите все пары чисел $(a; b)$ такие, что неравенство

$$\frac{8 - 6x}{3x - 2} \geq ax + b \geq 18x^2 - 51x + 28$$

выполнено для всех x на промежутке $(\frac{2}{3}; 2]$.

7. [6 баллов] Дана пирамида $TXYZ$, вершина Y которой лежит на одной сфере с серединами всех её рёбер, кроме ребра TU . Известно, что $XY = \sqrt{3}$, $TX = \sqrt{2}$, $TZ = 2$. Найдите длину ребра XZ . Какой наименьший радиус может иметь сфера, описанная около данной пирамиды?

ПИСЬМЕННАЯ РАБОТА

1) $\sin(2\alpha + 4\beta) + \sin 2\alpha = -\frac{2}{\sqrt{17}}$; перейдем от суммы к произведению.

$$2 \sin(2\alpha + 2\beta) \cdot \cos 2\beta = -\frac{2}{\sqrt{17}} \quad | : 2$$

Т.к. $\sin(2\alpha + 2\beta) = -\frac{1}{\sqrt{17}}$, то $-\frac{1}{\sqrt{17}} \cdot \cos 2\beta = -\frac{1}{\sqrt{17}} \quad | \cdot (-1)$

$$\cos 2\beta = \frac{1}{\sqrt{17}}$$

Откуда 1 случай $\sin 2\beta = +\frac{4}{\sqrt{17}}$;

$$\sin(2\alpha + 2\beta) = -\frac{1}{\sqrt{17}} \Rightarrow \sin 2\alpha \cdot \cos 2\beta + \sin 2\beta \cdot \cos 2\alpha = -\frac{1}{\sqrt{17}}$$

$$\sin 2\alpha \cdot \frac{1}{\sqrt{17}} + \frac{4}{\sqrt{17}} \cdot \cos 2\alpha = -\frac{1}{\sqrt{17}} \Rightarrow \sin(2\alpha + \arccos \frac{1}{\sqrt{17}}) = -\frac{1}{\sqrt{17}}$$

$$2\alpha + \arccos \frac{1}{\sqrt{17}} = \arcsin -\frac{1}{\sqrt{17}} \quad \text{т.к. } \arcsin x + \arccos x = \frac{\pi}{2} \text{ где } x \in [-1; 1], \text{ то}$$

$$2\alpha + \frac{\pi}{2} = 0 \Rightarrow \alpha = -\frac{\pi}{4} \Rightarrow \underline{\underline{\operatorname{tg} \alpha = -1}}$$

2 случай. $\sin 2\beta = -\frac{4}{\sqrt{17}}$, тогда $\sin 2\alpha \cdot \frac{1}{\sqrt{17}} - \frac{4}{\sqrt{17}} \cdot \cos 2\alpha = -\frac{1}{\sqrt{17}}$

$$\sin(2\alpha - \arccos \frac{1}{\sqrt{17}}) = -\frac{1}{\sqrt{17}} \Rightarrow 2\alpha - \arccos \frac{1}{\sqrt{17}} = -\arcsin -\frac{1}{\sqrt{17}}$$

$$2\alpha - \frac{\pi}{2} = 0 \Rightarrow \alpha = \frac{\pi}{4} \Rightarrow \underline{\underline{\operatorname{tg} \alpha = 1}}$$

Ответ: $\operatorname{tg} \alpha = 1$; $\operatorname{tg} \alpha = -1$

$$2) \begin{cases} y - 6x = \sqrt{x^2 + y^2 - 6x - 12y + 45} \\ 9x^2 + y^2 - 18x - 12y = 45 \end{cases} \Rightarrow \begin{cases} y - 6x = \sqrt{(y-6)(x-1)} \\ 9(x-1)^2 + (y-6)^2 = 90 \end{cases}$$

Пусть $x-1 = t$, а $y-6 = z$, тогда $y-6+6-6x =$

$$= (y-6) - 6(x-1) = z - 6t, \text{ значит } 0 \leq (z-6t)^2 = tz, \text{ где } (z-6t) \geq 0$$

$$\textcircled{1} = z^2 - 12tz + 36t^2 - tz = 0 \quad | : t^2 \quad \textcircled{2} \begin{cases} y t^2 + z^2 = 90 \\ z \neq 0 \end{cases}$$

где $t \neq 0$ потому что пара $x=0$ и $y=0$ не подходит.

$$\left(\frac{z}{t}\right)^2 - 13\left(\frac{z}{t}\right) + 36 = 0$$

$$D = 169 - 144 = 5^2$$

$$\frac{z}{t} = 9 \text{ и } \frac{z}{t} = 4$$

Продолжите \rightarrow

ПИСЬМЕННАЯ РАБОТА

6) $\frac{8-6x}{3x-2} \Rightarrow ax+b \Rightarrow 18x^2-5(x+28) ;$

Тогда нам нужно найти такую прямую $y=ax+b$, которая при всех $x \in (\frac{2}{3}; 2]$ будет лежать ниже гиперболы и выше параболы.

Пусть гипербола $f(x) = \frac{8-6x}{3x-2}$, а $g(x)$ — параболла $18x^2-5(x+28)$

Построим графики функций на плоскости xOy .

Асимптотами гиперболы будут

прямые $x = \frac{2}{3}$ и $y = -2$

Параболла с вершиной в точке

пересекает ~~прямую~~ $x = \frac{2}{3}$

в значении 2, а прямую

$x = 2$ в значении -2 , тогда

$$y_0 < -2$$

$f(x)$ пересекает $x = 2$ в значении

$y = -1$; обозначим точки пере-

сечения $g(x)$ с границами

интервала, через $A(\frac{2}{3}; 2)$ и $B(2; -2)$. Наша прямая будет проходить через точки A и B , тогда:

$$\begin{cases} \frac{2}{3}a + b = 2 \\ 2a + b = -2 \end{cases} \Rightarrow a = -3 \text{ и } b = 4, \text{ тогда прямая}$$

имеет вид $y = -3x + 4$

Продолжение \rightarrow

Докажем, что у нее ед. точка пересечения
 ~~$f(x)$~~ при всех x .

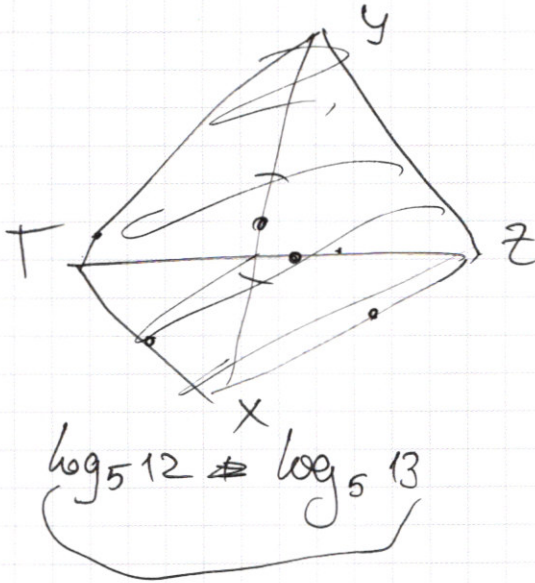
$$y - 3x + 4 = \frac{8 - 6x}{3x - 2} \Rightarrow (-3x + 4)(3x - 2) = 8 - 6x$$

$$9x^2 - 24x + 16 = 0$$

$$D = 576 - 36 \cdot 16 = 0$$

Тогда эта прямая проходит через точки A и B ,
касаясь гипербола, причем на $x \in [\frac{2}{3}; 2]$
остающая имеет вид. И пересекает параболу
в точках A и B , условия выполнены. Данная
прямая единственная л.к. не может иметь
более точек A и B (будем 2 решения с $f(x)$) и
иже A и B (будем 2 пересечения с $g(x)$)
Ответ: $a = -3; b = 4$

ПИСЬМЕННАЯ РАБОТА



$$(26x - x^2)^{\log_5 12} (26x - x^2) \geq 13^{\log_5 (26x - x^2)}$$

$$t^{\log_5 12} + t \geq 13^{\log_5 t}$$

$$t^{\log_5 12} + t \geq 5^{\log_5 13 \cdot \log_5 t}$$

$$t^{\log_5 12} + t \geq t^{\log_5 13} \quad | : t^{\log_5 13}$$

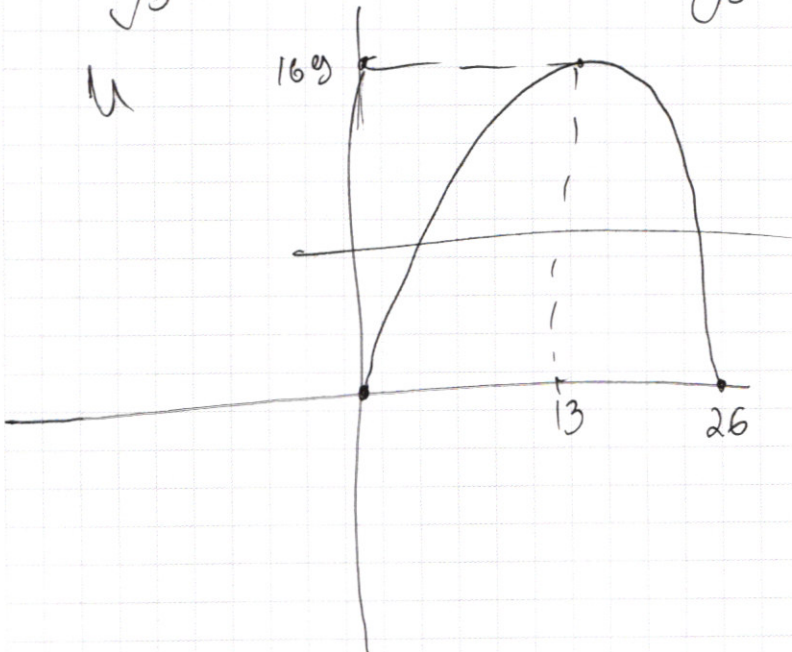
$$t^{\log_5 12 - \log_5 13} = t^{\log_5 12 - \log_5 13}$$

$$t^{\log_5 12} + t^{-\log_5 13} + t^{\log_5 13 - 1} \geq 0$$

$$t^{\log_5 12} + t^{-\log_5 13} - 1 \geq 0$$

$$f(t) = t^{\log_5 12} + t \geq t^{\log_5 13} \quad t > 0$$

$$\log_5 12 \cdot t^{\log_5 \frac{12}{5}} + 1 - \log_5 13 \cdot t^{\log_5 \frac{13}{5}} = 0$$



$$26x - x^2 = 0$$

$$x(26 - x) = 0$$

$$t^{\log_5 12} + t \geq 13^{\log_5 t}$$

$$t^{\log_5 12} + t \geq t^{\log_5 13}$$

$(5^{\log_5 13}) \cdot \log_5 t$

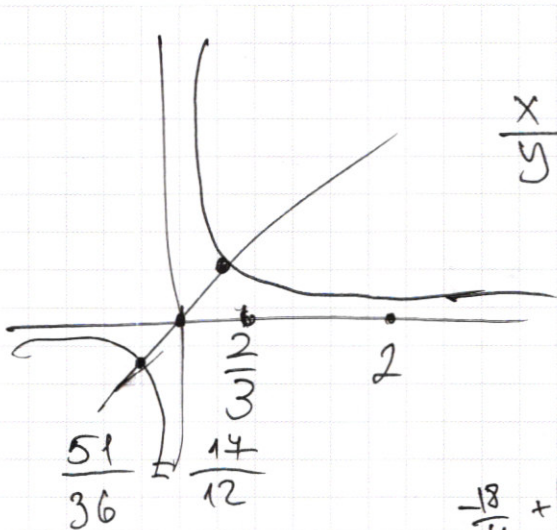
$$t^{\log_5 12} + t -$$



черновик чистовик
(Поставьте галочку в нужном поле)

Страница №__
(Нумеровать только чистовики)

ПИСЬМЕННАЯ РАБОТА



x	2	1	4/3
y	-1	2	0

$$g(x) = \frac{6x-8}{3x-2} \cdot \frac{3x-2}{6x-4} = \frac{6x-8}{6x-4} = 2 - \frac{4}{3x-2}$$

$$\frac{51}{36} = \frac{17}{12}$$

$$\frac{1}{x} > x$$

$$1 - x^2 > 0$$

$$x(x-1)(x+1) < 0$$

$$\begin{cases} 2a + b = -1 \\ \frac{2}{3}a + \frac{1}{3}b = 2 \end{cases}$$

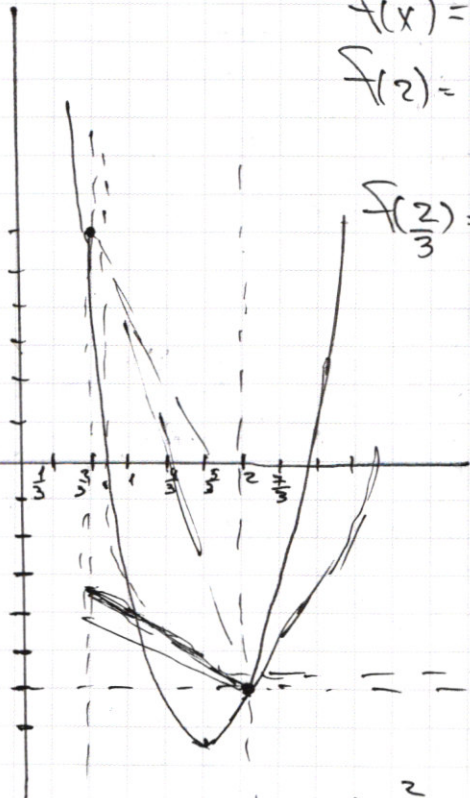
$$\frac{1}{3}a = -3 \Rightarrow a = -9$$

$$b = -1 - 2a = -1 - 2(-9) = 17$$

$$y = -\frac{9}{4}x + \frac{14}{4} = \frac{4}{3x-2} - 2$$

$$-9x + 14 = \frac{16}{3x-2} - 8$$

$$-9x + 22 = \frac{16}{3x-2}$$



$$F(x) = 18x^2 - 51x + 28$$

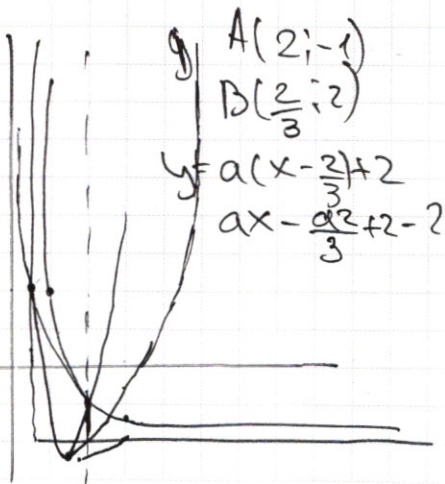
$$F(2) = 18 \cdot 4 - 102 + 28 = 72 - 102 + 28 = -2$$

$$F\left(\frac{2}{3}\right) = 18 \cdot \frac{4}{9} - 51 \cdot \frac{2}{3} + 28 = 8 - 34 + 28 = 2$$

$$289 \cdot 9 - 4 \cdot 9 \cdot 2 \cdot 28 = 9(289 - 28 \cdot 8) = 9(289 - 224) = 9 \cdot 65 = 585$$

$$51 \pm \sqrt{165}$$

$$\frac{17 \pm \sqrt{65}}{12}$$



$$y = -2$$

$$\frac{18 \cdot 4}{9} - \frac{51 \cdot 2}{3} + 28 = 8 - 34 + 28 = 2$$

ПИСЬМЕННАЯ РАБОТА

$$\sin(2\alpha + 2\beta) = -\frac{1}{\sqrt{17}} \quad \sin(2(\alpha + 2\beta)) + \sin 2\alpha = -\frac{2}{17}$$

$$\sin(2(\alpha + \beta)) = \quad 2\sin(\alpha + 2\beta) \cdot \cos(\alpha + 2\beta) + \sin 2\alpha = -\frac{2}{17}$$

$$\sin(\alpha + 2\beta) \cdot \cos(\alpha + 2\beta) + \sin \alpha \cdot \cos \alpha = -\frac{1}{17}$$

$$\sin 2\alpha \cdot \cos 2\beta + \sin 2\beta \cdot \cos 2\alpha = -\frac{1}{\sqrt{17}}$$

$$(\sin \alpha \cdot \cos 2\beta + \sin 2\beta \cdot \cos \alpha)(\cos \alpha \cdot \cos 2\beta - \sin \alpha \cdot \sin 2\beta)$$

$$1) 2\sin(\alpha + \beta) \cdot \cos(\alpha + \beta) = -\frac{1}{\sqrt{17}}$$

$$1 - 2\sin^2 \beta = \frac{1}{\sqrt{17}}$$

$$-2\sin^2 \beta = \frac{-1 - \sqrt{17}}{17}$$

$$2) \sin(x+y) = \sin x \cdot \cos y + \sin y \cdot \cos x$$

$$\sin(x-y) = \sin x \cdot \cos y - \sin y \cdot \cos x$$

$$\sin^2 \beta = \frac{1 + \sqrt{17}}{34}$$

$$2\alpha + 4\beta - 2\alpha$$

$$\sin(x-y) + \sin(x+y) = 2\sin x \cdot \cos y$$

$$2\sin \frac{x+y}{2} \cdot \cos \frac{x-y}{2}$$

$$\begin{cases} x-y = t \\ x+y = z \end{cases} \quad \begin{aligned} x &= \frac{t+z}{2} \\ -2y &= t-z \\ y &= \frac{z-t}{2} \end{aligned}$$

$$2\sin \frac{4\alpha + 4\beta}{2} = 2\sin(2\alpha + 2\beta) \cdot \cos 2\beta = -\frac{2}{17}$$

$$\sin(2\alpha + 2\beta) \cdot \cos 2\beta = -\frac{1}{17}$$

$$1) \sin 2\beta = \pm \frac{4}{\sqrt{17}}$$

$$\sin 2\alpha \cdot \frac{1}{\sqrt{17}} + \frac{4}{\sqrt{17}} \cdot \cos 2\alpha = -\frac{1}{\sqrt{17}}$$

$$\sin(2\alpha + 2\arccos \frac{1}{\sqrt{17}}) = -\frac{1}{\sqrt{17}}$$

$$2\alpha + \arccos \frac{1}{\sqrt{17}} = -\arcsin \frac{1}{\sqrt{17}}$$

$$2\alpha + \frac{\pi}{2} = 0$$

$$\alpha = -\frac{\pi}{4}$$

$$\operatorname{tg} \alpha = \operatorname{tg}(-\frac{\pi}{4}) = -1$$

$$\arcsin x + \arcsin y = \xi$$

$$= (\frac{1}{\sqrt{17}} \cdot \frac{\sqrt{17} - 16}{17} + \frac{4}{\sqrt{17}} \cdot \sqrt{1 - \frac{1}{17}})$$

$$(\frac{1}{\sqrt{17}} - \frac{16}{17}) = (-\frac{15}{17})$$

$$2) \sin 2\beta = -\frac{4}{\sqrt{17}} \Rightarrow 2\beta = \arcsin -\frac{4}{\sqrt{17}}$$

$$\sin(2\alpha + \arcsin -\frac{4}{\sqrt{17}}) = -\frac{1}{\sqrt{17}}$$

$$2\alpha + \arcsin -\frac{4}{\sqrt{17}} = \arcsin -\frac{1}{\sqrt{17}}$$

$$\frac{\sin x \cdot \cos y + \sin y \cdot \cos x}{\sin \cos x \cdot \cos y - \sin x \cdot \sin y} = \operatorname{tg} 2\alpha$$

$$\sin 2\alpha \cdot \frac{1}{\sqrt{17}} = \frac{4}{\sqrt{17}} \cdot \cos 2\alpha = -\frac{1}{\sqrt{17}}$$

$$\sin(2\alpha - \arccos \frac{1}{\sqrt{17}}) = \frac{1}{\sqrt{17}}$$

$$2\alpha - \arccos \frac{1}{\sqrt{17}} - \arcsin \frac{1}{\sqrt{17}} = 0$$

$$2\alpha - \frac{\pi}{2} = 0$$

$$\alpha = \frac{\pi}{4} \Rightarrow \operatorname{tg} \alpha = 1$$

$$\left\{ \begin{aligned} y-6x &= \sqrt{x(y-6)-(y6)} = \sqrt{(y-6)(x-1)} & (y-6x)^2 &= (y-6)(x-1) \end{aligned} \right.$$

3236
45
180
144
1620
324
1944

$$324 - 4 \cdot 9(y^2 - 12y + 45) = 324 - 36y^2 + 144 \cdot 3y + 36 \cdot 45$$

$$36(9 - y^2 + 12y + 45)$$

$$9x(x-2)$$

$$9(x^2 - 2x + 1)$$

$$9(x-1)^2 + (y-6)^2 = 90$$

$$(x-1) = t; y-6 = z$$

$$36 + 225 - 36 - 180$$

$$z = 4 \cdot (\pm \sqrt{\frac{18}{5}})$$

$$6 - 12\sqrt{\frac{2}{5}} - 6 + 18\sqrt{\frac{2}{5}} - 6\sqrt{\frac{2}{5}}$$

$$t = \pm \sqrt{\frac{18}{5}}$$

$$t = 3\sqrt{\frac{2}{5}}; z = 12\sqrt{\frac{2}{5}}$$

$$12^2 + 125 = 13^2$$

$$26 \cdot 13 = 13 \cdot 26$$

$$\begin{cases} (z-6t)^2 = tz \\ 9t^2 + z^2 = 90 \end{cases}$$

$$z^2 - 12tz + 36t^2 = tz$$

$$z^2 - 13tz + 36t^2 = 0 \quad | : z^2$$

$$169 - 14u = 5^2$$

$$\frac{13 \pm 5}{2} = 9; 4$$

$$\frac{z}{t} = 9; \frac{z}{t} = 4$$

$$z = 9t$$

$$\begin{aligned} 90t^2 + 81t^2 &= 90 \\ 90t^2 &= 90 \\ t^2 &= 1 \\ t &= \pm 1 \end{aligned}$$

90
25
18
5

$$|x^2 - 26x| \log_5 12 + 26x \geq x^2 + 13 \log_5(26x - x^2)$$

$$|-(26x - x^2)| \quad a > 0 \quad | -a |$$

$$a = 5$$

$$| -5 | = 5$$

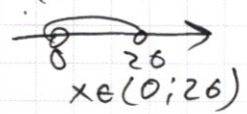
$$a = -1$$

0 D 3:

$$26x - x^2 \geq 0$$

$$x(26 - x) > 0$$

$$x(x - 26) < 0$$



$$(26x - x^2) \log_5 12 + 26x \geq x^2 + 13 \log_5(26x - x^2)$$

$$26x - x^2$$

$$\log_5 13 \cdot \log_5(26x - x^2)$$

$$(26x - x^2) \log_5 12 + (26x - x^2) \geq (26x - x^2)$$

$$t \log_5 12 + t \geq t \log_5 13$$

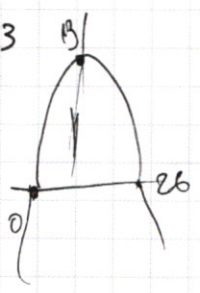
$$t(\log_5 12 - \log_5 5) + 1$$

$$26 \cdot 25 - 25 \cdot 25$$

$$\log_5 13$$

$$\log_5 12$$

$$\log_5 13 - 1$$



$$x^a$$

$$\log_5 12 \cdot t \log_5 \frac{12}{5} + 1 \geq \log_5 13 \cdot t$$

$$\frac{8-6x}{3x-2}$$

$$\begin{array}{r} 8-6x \quad | \quad 3x-2 \\ 6x-8 \quad | \quad 3x-2 \\ \hline 6x-4 \quad | \quad 2 \\ \hline -4 \end{array}$$

$$-2 + \frac{4}{3x-2}$$

$$t+1 \geq \log_5 13 \cdot t$$

$$\log_5 \frac{13}{5} \cdot t \log_5 \frac{12}{5} \cdot 26x - x^2 = 5$$

$$676 - 4(-1)(-5)$$

$$676 - 20$$