

МОСКОВСКИЙ ФИЗИКО-ТЕХНИЧЕСКИЙ ИНСТИТУТ
ОЛИМПИАДА "ФИЗТЕХ" ПО МАТЕМАТИКЕ

10 класс

ВАРИАНТ 9

ШИФР _____

Заполняется ответственным секретарём

1. [2 балла] Числа a, b, c являются первым, вторым и третьим членами геометрической прогрессии соответственно (числа a, b, c не заданы), а четвёртый член прогрессии является корнем уравнения $ax^2 + 2bx + c = 0$. Найдите третий член прогрессии.
2. [4 балла] Найдите количество треугольников периметра 1200 с целочисленными сторонами, у которых одна из биссектрис перпендикулярна одной из медиан.
3. [4 балла] Решите систему уравнений

$$\begin{cases} y - 2x = \sqrt{xy - 2x - y + 2}, \\ 2x^2 + y^2 - 4x - 4y + 3 = 0. \end{cases}$$

4. [5 баллов] а) В прямоугольном треугольнике ABC на катете AC и гипотенузе AB отмечены точки D и E соответственно, такие что $AD : AC = 3 : 5$ и $DE \perp AB$. Найдите тангенс угла BAC , если известно, что $\angle CED = 45^\circ$.
б) Пусть дополнительно известно, что $AC = \sqrt{29}$. Найдите площадь треугольника CED .
5. [5 баллов] Окружности Ω и ω касаются в точке A внутренним образом. Отрезок AB – диаметр большей окружности Ω , а хорда BC окружности Ω касается ω в точке D . Луч AD повторно пересекает Ω в точке E . Найдите радиусы окружностей и площадь четырёхугольника $BACE$, если известно, что $CD = 1, BD = 3$.
6. [5 баллов] Найдите все пары чисел $(a; b)$ такие, что неравенство

$$2x^2 - x - 1 \leq ax + b \leq x + |2x - 1|$$

выполнено для всех x на промежутке $[-\frac{1}{4}; \frac{3}{2}]$.

7. [5 баллов] Функция f определена на множестве положительных рациональных чисел. Известно, что для любых чисел a и b из этого множества выполнено равенство $f(ab) = f(a) + f(b)$, и при этом $f(p) = [p/2]$ для любого простого числа p ($[x]$ обозначает наибольшее целое число, не превосходящее x). Найдите количество пар натуральных чисел $(x; y)$ таких, что $1 \leq x \leq 21, 1 \leq y \leq 21$ и $f(x/y) < 0$.

ПИСЬМЕННАЯ РАБОТА

Задача 1.

Дано: h_n - геом. пр.

$$h_0 = a$$

$$h_1 = b$$

$$h_2 = c$$

$$\frac{h_{i+1}}{h_i} = d.$$

$$ax^2 + 2bx + c = 0.$$

$$ax^2 + 2\sqrt{ac}x + c = 0.$$

$$(x\sqrt{a} + \sqrt{c})^2 = 0.$$

$$x\sqrt{a} + \sqrt{c} = 0.$$

$$x = -\sqrt{\frac{c}{a}} = -\sqrt{d^2} = -d = h_3.$$

$$c = h_2 = \frac{h_3}{d} = \frac{-d}{d} = -1.$$

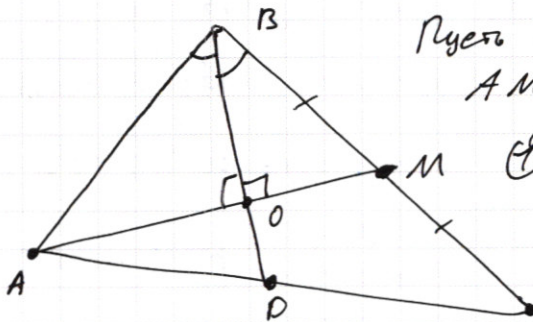
Ответ: ~~1~~ -1.

Задача 2

и допустим, что медиана и биссектриса выходят из одной вершины и угол между ними $= 90^\circ$.

Такое невозможно, т.к. угол между биссектрисой и стороной $< 90^\circ$, а медиана лежит между сторонами.

Значит, они выходят из разных углов.



Пусть в $\triangle ABC$: AM - медиана; BD - бис.;
 $AM \perp BD = O$; $\angle BOA = 90^\circ$.

$$\text{т.к. } \angle ABO = \angle MBO; \angle AOB = \angle MOB = 90^\circ; OB = OB \Rightarrow$$

$$\Rightarrow AB = BM = MC = a.$$

$$\text{По ав. бис.}; \frac{AB}{AD} = \frac{BC}{CD} \Rightarrow \frac{a}{AD} = \frac{a}{CD},$$

$$\Rightarrow AD = b; DC = 2b. \quad \Rightarrow AB = a; BC = 2a; AC = 3b$$

Это условие является необходимым и достаточным (указывается аналогично), поэтому.

Остается проверить, удовлетворяют ли стороны нерав. треугольника.

Задача 2. Продолжение.

Условие: мы ищем количество троек $(a, 2a, 3b)$ таких, что $a, b \in \mathbb{N}$; $3a + 3b = 1200 \Leftrightarrow a + b = \frac{1200}{3} \Leftrightarrow b = \frac{1200}{3} - a$;

$$\begin{cases} a + 2a > 3b \\ 3b + 2a > a \\ 3b + a > 2a \end{cases} \Leftrightarrow \begin{cases} a > b \\ b > \frac{a}{3} \\ b > \frac{a}{3} \end{cases} \Rightarrow \boxed{\begin{cases} a > b \\ 3b > a \end{cases}} \Rightarrow \begin{cases} a > 600 - a \\ 1200 - 3a > a \end{cases}$$

$$\begin{cases} a > 300 \\ a < 400 \end{cases} \Rightarrow \begin{cases} a > 400 - a \\ a < 1200 - 3a \end{cases} \Rightarrow \begin{cases} a > 200 \\ a < 300 \end{cases}$$

Всего существует 99 таких a , ~~каждый из~~, из которых восстанавливаются $2a$; $3b$, удовлетворяющие условию.

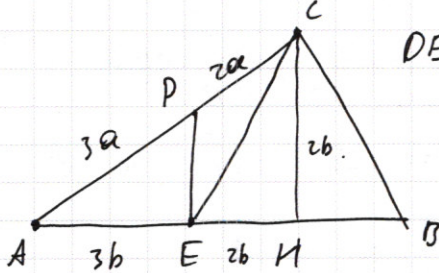
Далее я считаю, что условие сформулировано нечетко: тяжело, что считать разными или ~~разными~~ треугольниками. Если ~~нас интересует~~

Если мы считаем треугольниками, у которых разными все стороны, то ~~их 99~~. Мы считаем их так: всего троек не больше 99, но возможно, что некоторые из них задаются разными значениями a . Если в выделенной системе выразить a через b и подставить, то оказывается, что $\begin{cases} b < 400 - b \\ 3b > 400 - b \end{cases}; b \in (100; 200)$. Значит, ни при каких значениях a, b не может повториться сторона.

Ответ: 99.

ПИСЬМЕННАЯ РАБОТА

Задача 4



Дано: $\triangle ABC: \angle C = 90^\circ$; $DE \perp AB$; $E \in AB$; $\angle A = 45^\circ$;
 $AP = 3a$; $AC = 5a$.

б): $AC = \sqrt{29}$ $S_{\triangle CDE} = ?$.

Решение:

1. Д.п. CE ; $CH \perp AB$; $H \in AB$.

2. $\triangle ACH \sim \triangle ADE$ ($\angle A = \angle A$; $\angle DEA = \angle CHA = 90^\circ$) $\Rightarrow \frac{AP}{AE} = \frac{AC}{AH}$; $AE = 3b$

$AH = 5b \Rightarrow EH = AH - AE = 2b$.

3. $CH \parallel DE$ ($\angle DEA = \angle CHA = 90^\circ$ - соответств. DE ; CH ; EH -сек.) \Rightarrow

$\Rightarrow \angle DEC = \angle ECH = 45^\circ$ (покр. пары при $DE \parallel CH$; EC -сек.)

4. $\triangle ECH$: $EH = 2b$; $\angle H = 90^\circ$; $\angle C = 45^\circ \Rightarrow \angle E = 45^\circ = \angle C \Rightarrow CH = EH = 2b$.

5. $\triangle ACH$: $AH = 5b$; $CH = 2b$; $\angle H = 90^\circ \Rightarrow \text{tg} \angle CAH = \frac{CH}{AH} = \underline{\underline{0,4}}$.

6. $\triangle ACH$: $\angle H = 90^\circ$; $AH = 5b$; $CH = 2b$; $AC = 5a = \sqrt{29}$.

По т. Пифагора: $AH^2 + CH^2 = 25b^2 + 4b^2 = 29 = AC^2 \Rightarrow b^2 = 1 \Rightarrow b = 1$.

7. $\triangle ADE$: $\text{tg} \angle DAE = 0,4$; $AE = 3b$; $\angle E = 90^\circ \Rightarrow \frac{DE}{AE} = \text{tg} \angle A = 0,4$.

$DE = 0,4 AE = 0,4 \cdot 3b = 1,2b = 1,2$.

8. $S_{\triangle CDE} = \frac{DE \cdot EH}{2} = \frac{1,2 \cdot 2}{2} = 1,2$. т.к. $DE \perp EH$; $EH \perp CH$.

Ответ: $0,4$; $1,2$.

Задача 5

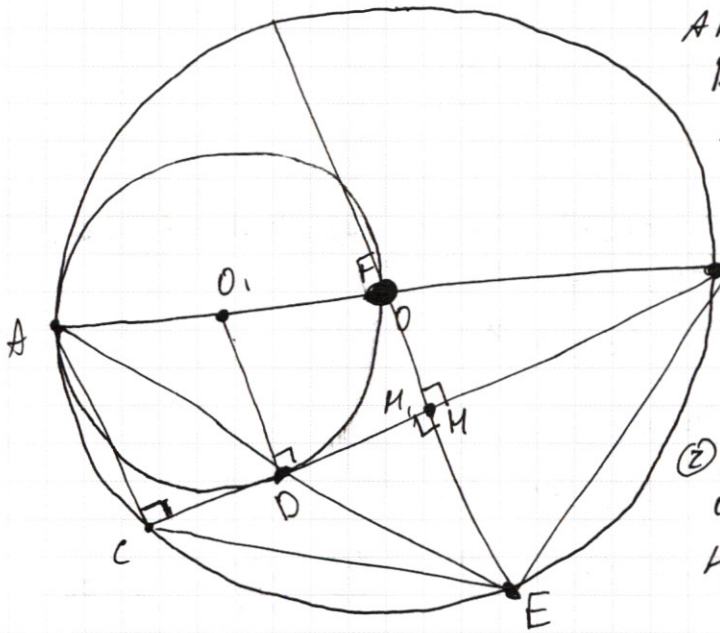
Дано: окр $\Omega(O; R)$; окр $\omega(O_1; r)$
касаются внутр. оопр. в A .

AB - диаметр Ω .

BD - касательная к ω . $BD \cap \Omega = C$.

$AD \cap \Omega = E$; $CD = 1$; $BD = 3$.

Найти: R ; r ; S_{BACE} .



① По лемме Архимеда
 $\angle CFE = \angle BEF \Rightarrow CF = EF \Rightarrow$

E лежит на сеп. перп. к CB .

② Д.П. OM - сеп. пер. к CB ;
 $\omega \cap AB = F$; $O_1D \perp BC$; $FH_1 \perp BC$;
 $H_1 \in BC$;

③ $CA \perp CB$; $DO_1 \perp CB$; $H_1, F \perp CB$; $AO_1 = O_1F \Rightarrow CD = DM_1 = 1 \Rightarrow$
 \Rightarrow ~~сеп. пер.~~ $CH_1 = 2$.

④ HO_1 - сеп. пер. $\Rightarrow CH = HB = \frac{CD + DB}{2} = 2 = CH_1 \Rightarrow H_1 \equiv H$.

⑤ $H, F \perp BC$; $F \in AB$; $HO_1 \perp CB$; $O_1E \perp AB$; $H \equiv H_1 \Rightarrow F = O \Rightarrow R = 2r$.

⑥ $AO = OB = AO_1 + O_1O = 2r \Rightarrow BO_1 = 3r$.

$\triangle BDO_1$: $\angle BDO_1 = 90^\circ$; $BD = 3$; $O_1D = r$; $BO_1 = 3r$.

По т. Пифагора: $BD^2 + O_1D^2 = 9 + r^2 = 9r^2 = OB^2 \Rightarrow r^2 = \frac{9}{8}$.

$$r = \frac{3}{2\sqrt{2}} \Rightarrow R = \frac{3}{\sqrt{2}}$$

⑦ в $\triangle BDO_1$ $\cos \angle O_1DB = \cos \angle O_1HB = \frac{O_1D}{O_1B} = \frac{O_1H}{O_1B} \Rightarrow \frac{O_1D}{O_1B} = \frac{O_1H}{O_1B} = \frac{3}{2} \Rightarrow$
 $\Rightarrow OM = \frac{2}{3} O_1D = \frac{2}{3} r = \frac{1}{\sqrt{2}}$

⑧ в $\triangle BOH$ $\cos \angle HOB = \cos \angle HOB = \frac{OH}{OB} = \frac{AC}{OB} = \frac{AB}{OB} = 2 \Rightarrow$
 $\Rightarrow AC = 2OH = \frac{2}{\sqrt{2}} = \sqrt{2}$.

⑨ $S_{BACE} = S_{\triangle ABC} + S_{\triangle CBE} = \frac{AC \cdot CB + CB \cdot HE}{2} = \frac{CB}{2} \cdot (AC + HE) =$
 $= 2(\sqrt{2} + OE - OM) = 2(\sqrt{2} + R - \frac{1}{\sqrt{2}}) = 2(\frac{1}{\sqrt{2}} + \frac{3}{\sqrt{2}}) = \frac{8}{\sqrt{2}} = 4\sqrt{2}$.

Ответ: $\frac{3}{2\sqrt{2}}$; $\frac{3}{\sqrt{2}}$; $4\sqrt{2}$.

ПИСЬМЕННАЯ РАБОТА

Задача 7: 1: $f(1) = f(1) + f(1) = 2f(1) \Rightarrow f(1) = 0$.

2: $\forall x$ -простое число: $f(x) \in \mathbb{N}$ т.к. $f(2) = 1$, а дальше простые числа увеличиваются, так что $[\frac{x}{2}]$ не уменьшается;

~~и т.д.~~ $[\frac{x}{2}] \in \mathbb{Z}$

3: $\forall x \in \mathbb{N}$: $f(x) \in \mathbb{N}$ т.к. x либо простой, тогда все доказано

либо x раскладывается в произведение простых, значит, $f(x)$ является суммой попарных x .

4: ~~и т.д.~~ $\forall x \in \mathbb{R}$: $f(x) = f(x \cdot x \cdot \frac{1}{x}) = f(x \cdot x) + f(\frac{1}{x}) = 2f(x) + f(\frac{1}{x})$

~~и т.д.~~ $f(x) = 2f(x) + f(\frac{1}{x}) \Rightarrow f(\frac{1}{x}) = f(x) - 1$

5: $f(\frac{x}{y}) = f(x) + f(\frac{1}{y}) = f(x) - f(y)$.

Составим таблицу значений $f(x)$ при $x \in \mathbb{N}$, $x \leq 21$, исходя из простых x или разложения на простые.

x	1	2	3	4	5	6	7	8	9	10	11	12	13	14	15	16	17
$f(x)$	0	1	1	2	2	2	3	3	2	3	5	3	6	4	3	4	8

x	18	19	20	21
$f(x)$	3	9	4	4

~~Для каждого из этих чисел посчитаем $f(x)$ - количество~~
Для каждого встречного $f(x)$ посчитаем количество встречных $f(x)$ меньше и просуммируем.

0: 1 раз

1: 2 раза

2: 4 раза

3: 6 раз

4: 4 раза

5: 7 раз

6: 1 раз

7: 1 раз

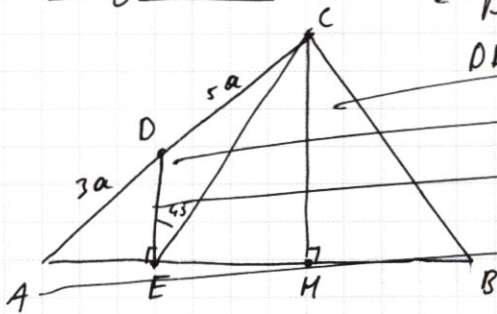
8: 1 раз

т.к. $f(\frac{x}{y}) < 0 \Leftrightarrow f(x) - f(y) < 0 \Leftrightarrow f(x) < f(y)$,
для каждого встречного $f(x)$ посчитаем количество встречных $f(x)$ меньше и просуммируем.
Это и будет ответом.

$1 + 3 + 7 + 13 + 17 + 18 + 19 + 20 = 20 + 20 + 18 + 20 + 20 = 98$.

Ответ: 98 пар.

Задача 4.



Дано: $\triangle ABC$; $\angle C = 90^\circ$; $D \in AC$; $AD = 3a$; $DC = 5a$;
 $DE \perp AB$; $E \in AB$; $\operatorname{tg} \angle CAB = ?$

а) $AC = \sqrt{29}$ $S_{\triangle CEP} = ?$

Решение:

1. Д.т. $CH \perp AB$, $HE \perp AB$.

2. $\triangle ACH \sim \triangle ADE$ ($\angle A = \angle A$; $\angle DFE = \angle CHA = 90^\circ$) $\Rightarrow \frac{AD}{AE} = \frac{AC}{AH}$

5. ~~$\frac{AD}{AE} = \frac{AC}{AH}$~~ $AE = 3b$; $AH = 8b \Rightarrow$ ~~$AE = 3b$~~ $EH = 5b$.

3. ~~$\angle DEA = \angle CHA = 90^\circ$~~ $CH \parallel DE$ ($\angle DEA = \angle CHA = 90^\circ$ - соответв при DE ; CH ;
 $\angle ECH$ - сек.)
 $\Rightarrow \angle DEC = \angle ECH = 45^\circ$ (накр нет при $DE \parallel CH$; EC - сек.)

4. ~~$\triangle ECH$~~ ; $EH = 5b$; $\angle H = 90^\circ$; $\angle C = 45^\circ \Rightarrow \angle E = 45^\circ = \angle C \Rightarrow CH = EH = 5b$.

5. $\triangle ACH$: $AH = 8b$; $CH = 5b \Rightarrow \operatorname{tg} \angle CAH = \frac{5b}{8b} = \frac{5}{8} = 0,625$.

6. $\triangle ACH$: $\angle H = 90^\circ$; $AH = 8b$, $CH = 5b$; $AC = 8a = \sqrt{29}$

По Пифагору: $AH^2 + CH^2 = 64b^2 + 25b^2 = 89b^2 = 29 \Rightarrow$

$$\Rightarrow b = \frac{\sqrt{29}}{\sqrt{89}}$$

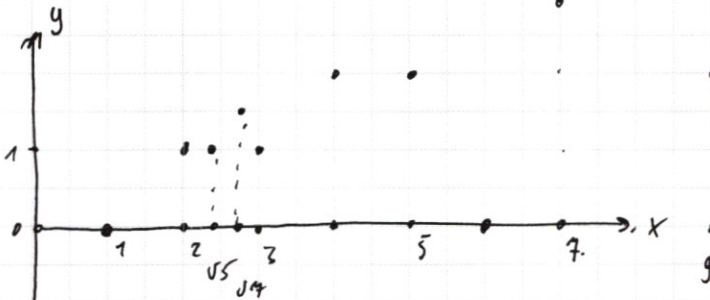
7. ~~$\triangle ADE$~~ : $\operatorname{tg} \angle DAE = \frac{5}{8}$; $AE = 3b$; $\angle E = 90^\circ \Rightarrow \frac{DE}{AE} = \operatorname{tg} \angle A = \frac{5}{8}$.

$$DE = \frac{5}{8} \cdot 3b = \frac{15}{8}b$$

8. ~~$S_{\triangle CEP} = \frac{DE \cdot EH}{2} = \frac{15 \cdot 5 \cdot b^2}{2} = \frac{75}{2} \cdot \frac{29}{89} =$~~

ПИСЬМЕННАЯ РАБОТА

$$f(ab) = f(a) + f(b) \Rightarrow f(x) = 2f(\sqrt{x}) \Rightarrow f(1) = 0.$$



$$f(2) = 1.$$

$$f(1) = 0.$$

$$f(2) = 1 \quad a = 400 - b.$$

$$f(3) = 1 \quad 400 - b > b.$$

$$f(4) = 2 \quad b > 200.$$

$$f(5) = 2 \quad 3b > 400 - b.$$

$$f(6) = 2$$

$$f(7) = 3 \quad 2b.$$

$$f(8) = 3 \quad \text{~~400 - b~~}$$

$$f(9) = 2 \quad b > 100.$$

$$f(10) = 3$$

$$f(11) = 5$$

$$f\left(\frac{2}{3}\right) = f(2) + f\left(\frac{1}{3}\right) = \frac{f\left(\frac{4}{9}\right)}{2}.$$

$$f(9) = \text{~~3~~}$$

$$f(3) = f\left(9 \cdot \frac{1}{3}\right) = f(9) + f\left(\frac{1}{3}\right)$$

$$f(x) = f\left(x^2 \cdot \frac{1}{x}\right) = f(x^2) + f\left(\frac{1}{x}\right) = 2f(x) + f\left(\frac{1}{x}\right) = 3f(x).$$

$$f\left(\frac{1}{x}\right) = -f(x).$$


1 ~~Всех ok~~

$x|y$: все ok

$y|x$: не подходит.

$$f\left(\frac{n}{m}\right) = f(n) + f\left(\frac{1}{m}\right)$$

$$f(x|y) = f(x) + f\left(\frac{1}{y}\right) = f(x) - f(y) < 0.$$





черновик чистовик
(Поставьте галочку в нужном поле)

Страница №__
(Нумеровать только чистовики)

$$Rac = 100 - 3a. \quad 5a = 1200.$$

$$a = 12 \cdot 20 = 240.$$

$$N1 \quad b = \sqrt{ac}.$$

$$a = 300.$$

$$d = \frac{ac}{a} = \frac{c}{b} = \sqrt{\frac{c}{a}}$$

$$2 \sqrt{x}$$

$$4 \sqrt{2}$$

$$3$$

$$5 \sqrt{2}$$

$$5 \sqrt{2} \quad 452.$$

$$0$$

$$5 \sqrt{2}$$

$$ax^2 + 2bx + c = 0.$$

$$ax^2 + 2\sqrt{ac}x + c = 0$$

$$(\sqrt{a}x + \sqrt{c})^2 = 0.$$

$$\sqrt{a}x + \sqrt{c} = 0.$$

$$\sqrt{a}x = -\sqrt{c}. \quad x < 0. \quad \frac{a}{b} = \frac{c}{d}.$$

$$ax^2 = c.$$

$$x = \sqrt{\frac{c}{a}} = d.$$

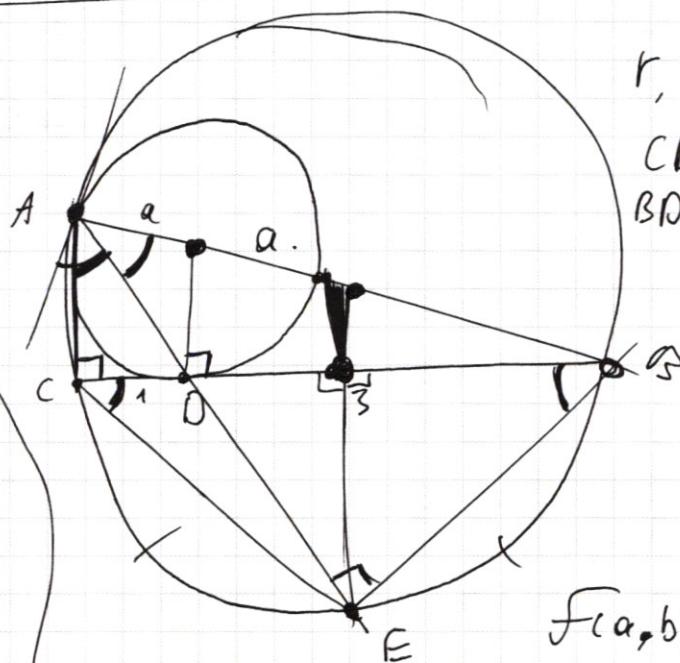
$$\frac{a-c}{b-d}.$$

$$\frac{5}{8} \cdot 3 \cdot b.$$

16/31

$$3 + 8 + 2 + 7$$

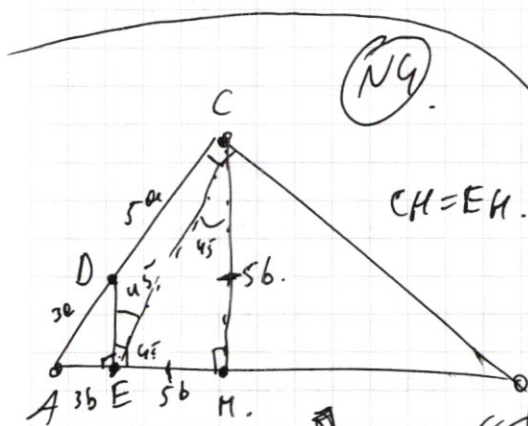
$$\frac{175}{5} = 35.$$



r, R - ?

$$CD = 1$$

$$BD = 3.$$



$$F(a, b) = 2F(\sqrt{ab})$$

$$F(x) = 2F(\sqrt{x}).$$

$$F(1) = 0.$$

